

## ТЕСТ 7. БЪЛГАРИЯ СЛЕД ВТОРАТА СВЕТОВНА ВОЙНА ДО 1989 г.

### 1. Какво представлява Отечественият фронт (ОФ)?

- А) политическа коалиция
- Б) фронт по време на Втората световна война
- В) политическа партия
- Г) партизански отряд

### 2. Кой договор потвърждава връщането на Южна Добруджа на България?

- А) Ньойският
- Б) Парижкия
- В) Букурещкия
- Г) Лондонския

### 3. Как България е провъзгласена за Народна република на 15 септември 1946 г.?

- А) след референдум
- Б) чрез военен преврат
- В) по решение на ВНС
- Г) по искане на САЩ

### 4. Какви са по своя състав първите четири правителства след 9 септември 1944 г.?

- А) безпартийни
- Б) еднопартийни
- В) коалиционни
- Г) служебни

### 5. С коя дата се свързва налагането на тоталитарния модел на управление в България?

- А) 15 септември 1946 г.
- Б) 18 март 1948 г.
- В) 4 декември 1947 г.
- Г) 9 септември 1944 г.

### 6. Кое е белег на тоталитарната власт?

- А) разделението на властите
- Б) свободата на словото и печата
- В) сливането на партията с държавата
- Г) неприкосновеността на частната собственост

### 7. Кое твърдение се отнася за управлението на Вълко Червенков?

- А) „Народният съд“ в София произнася 2730 смъртни присъди.
- Б) Приета е Конституцията на Народна република България.
- В) Извършено е насилствено коопериране на земята.
- Г) Започва осъществяването на „възродителния процес“.

### 8. Кое понятие отговаря на определението?

*Определяне в централизираната планова икономика на задължителните стопански дейности за определен период от време.*

- А) директива
- Б) петилетка
- В) резолюция
- Г) прогноза

### 9. С каква цел е създадена Държавна сигурност (ДС)?

- А) да организира връзките на България със страните в СИВ
- Б) да осъществи присъединяването на България към СССР
- В) да постигне поетапно коопериране на земята в България
- Г) да укрепва властта на БКП, като контролира обществото

10. През периода на студената война България е част от Източния блок, който се оформя под контрола на:

А) СФРЮ

Б) САЩ

В) СССР

Г) НАТО

11. Разгледайте изображението и отбележете коя част от изречението, което го описва, е ГРЕШНА.

А) Това е пропаганден плакат,

Б) насочен към популяризиране на политиката на Комунистическата партия

В) и на налагане на култа към личността

Г) в лицето на комунистическия водач Георги Димитров.



12. Коя от държавите НЕ участва във Варшавския договор?

А) България

Б) Румъния

В) Полша

Г) Югославия

13. Кое понятие е описано в текста?

„Зле платеният тежък труд и по-лошите условия на живот принуждават повече от 2 млн. селяни през 50-те – 70-те години на ХХ в. да се преселят в градовете.“

А) глобализация

В) модернизация

Б) миграция

Г) национализация

14. За кой от вождовете на БКП се отнася описанието?

Той е роден в Пранец. През 1954 г. е избран за първи секретар на БКП. Повече от 35 години е начело на партията и държавата. Води политика на тясно сближаване със СССР. Поради грешни решения в икономиката България натрупва голям външен дълг.

А) Васил Коларов

Б) Георги Димитров

В) Вълко Червенков

Г) Тодор Живков

15. Кое твърдение НЕ се отнася за управлението на БКП?

А) На 15 септември 1946 г. България е провъзгласена за народна република.

Б) Комунистическият режим установява пълен контрол върху политическия живот.

В) През периода 1944 – 1989 г. са гарантирани основните човешки права и свободи.

Г) Държавата притежава 90% от земята и промишлените предприятия в страната.

16. Запишете върху линията на времето само буквата на всяко от събитията.



А) аварията в атомната централа в Чернобил;

Б) провеждането на референдум за обявяване на България за република;

В) приемането на Живковската конституция;

Г) първото шествие на сдружение „Екогласност“;





Д) създаването на СИВ;

Е) подписването на Парижкия мирен договор

17. Попълнете таблицата, като запишете срещу всяко име сферата и/или жанра на творческа изява.

Име	Сфера/жанр на творческа изява
Леа Иванова	
Димитър Димов	
Валя Балканска	
група „Щурците“	
Златю Бояджиев	
Невена Коканова	
Валери Петров	
Радой Ралин	

18. Разгледайте изображенията. Срещу всяко от тях запишете в таблицата понятието, което му съответства, и неговото определение.

Изображение	Понятие	Определение
		
		
		
		

	<hr/> <hr/> <hr/> <hr/> <hr/> <hr/>	<hr/> <hr/> <hr/> <hr/> <hr/> <hr/>
	<hr/> <hr/> <hr/> <hr/> <hr/> <hr/>	<hr/> <hr/> <hr/> <hr/> <hr/> <hr/>

**19. Прочетете документа и изпълнете задачите.**

*„С неочаквано хитри ходове Живков бе успял да отстрани всички претенденти за върховната власт... не ги съдеше, не ги разстрелваше, както те правеха след 9 септември. Напротив – оставяше им привилегиите и ги пускаше да се разхождат с мерцедесите си... Засипваше ги с прослава и облаги, но ги държеше далеч от властта. А те му помагаха, като сами се унищожаваха с подозрения и взаимни обвинения.“*

Из „Ти си следващият“ от Любомир Левчев

**А) Опишете начините на действие на Тодор Живков спрямо претендентите за властта.**

---

---

---

---

**Б) Какви са резултатите от тази негова политика?**

---

---

---

---

**20. Разгледайте снимката на манифестиращи комсомолци и изпълнете задачите.**

**А) Опишете снимката.**

---

---

---

---

**Б) Запишете три елемента, които доказват, че събитието се случва по време на тоталитарния режим.**

1. \_\_\_\_\_
2. \_\_\_\_\_
3. \_\_\_\_\_



## КЛЮЧ ЗА ВЕРНИТЕ ОТГОВОРИ НА ТЕСТОВЕТЕ

### ТЕСТ 7. БЪЛГАРИЯ СЛЕД ВТОРАТА СВЕТОВНА ВОЙНА ДО 1989 г.

1	2	3	4	5	6	7	8	9	10	11	12	13	14	15
А	Б	А	В	В	В	В	Б	Г	В	Г	Г	Б	Г	В

16. А) 1986 г.; Б) 1946 г.; В) 1981 г.; Г) 1988 г.; Д) 1949 г.; Е) 1947 г.

17. Леа Иванова – музика/джаз; Димитър Димов – художествена проза; Валя Балканска – музика/фолклор; група „Щурците“ – музика/рок; Златю Бояджиев – изобразително изкуство/живопис; Невена Коканова – актриса/киноизкуство; Валери Петров – литература/поезия; Радой Ралин – поезия/сатира.

18. Изображение 1. „Народен съд“ – извънреден съд, действал в страната от декември 1944 г. до април 1945 г. като орган на левия революционен терор; Изображение 2. Репресивни органи: Органите на МВР (Народна милиция и Държавна сигурност), съдебните органи и местните органи на властта, чрез които се осъществява политическият контрол върху населението; Изображение 3. Социалистическа индустриализация – индустриализация (ускорено изграждане на тежката промишленост) по съветски модел; Изображение 4. Насилствено коопериране – създаване на ТКЗС чрез политически и физически натиск спрямо селяните и различни форми на икономическа принуда; Изображение 5. „Възродителен процес“ – асимилаторската политика на БКП към мюсюлманите в България, на насилствена замяна на имената и обичаите им; Изображение 6. Гражданско общество – независима сфера на самоизява на свободни граждани и неправителствени организации в защита на индивидуалните права и свободи.

19. А) Живков действа с хитри ходове. Не прилага репресии (не ги съди, не ги разстрелва), а ги засипва с облаги и привилегии, осигурява им прослава. Така ги настройва и ги хвърля едни срещу други; Б) Резултатите са, че противниците му изчерпват силите и енергията си да се занимават със съперничество и дразги помежду си, радват се на облагите и славата и така са държани далеч от властта и от опити да се домогнат до нея, отстранявайки Живков.

20. А) На снимката се виждат няколко редици комсомолци на манифестация. Те са облечени в празнични униформи – сини блузи, тъмносини поли и червени вратовръзки. В ръцете си държат знаменца, които размахват. Носят плакат, на който пише: „Винаги верни на великото революционно дело на БКП“. Лицата им са обърнати надясно, вероятно към трибуна с официални лица; Б) Манифестацията, лозунгът, червените знаменца, униформите.