

# Самопроверка

Запиши отговорите в тетражката.






Естествени  
числа

- Как се записва с цифри числото триста четиридесет и две хиляди седемстотин и пет?  
 А) 314 275                      Б) 342 750                      В) 342 705
- Коя е цифрата в реда на десетохилядите на числото 5 784 396?  
 А) 7                                      Б) 8                                      В) 9
- Кои са естествените числа, които са между числата 250 099 и 250 102?



Действия  
с естествени  
числа

- Пресметни.  
 $243\ 726 + 24\ 802$                        $4\ 000\ 219 \cdot 9$                        $128\ 048 : 4$   
 $32\ 479 - 1967$                                $2\ 026\ 286 \cdot 15$                        $253\ 950 : 25$
-   $45\ 408 - 14\ 508$       $45\ 408 - 24\ 508$   
 $405\ 523 + 4535$       $313\ 779 + 4535$
- Пресметни.  
 $(3 \cdot 10\ 356) : 3$                                $42\ 608 : 8 + 608 : 8$   
 $25 \cdot (275 : 25)$                                $33\ 648 : 24 - 648 : 24$



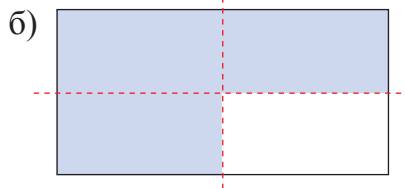
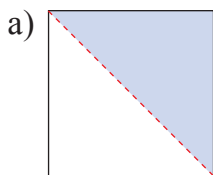
Текстови  
задачи

- В един склад има 1745 кг захар, което е с 398 кг повече от количеството ориз. Колко килограма брашно има в склада, ако то е с 847 кг повече от ориза?  
 • Кое е решението на задачата?  
 А)  $1745\text{ кг} - 398\text{ кг} = 1347\text{ кг}$  ориз                      Б)  $1745\text{ кг} + 398\text{ кг} = 2143\text{ кг}$  ориз  
 $1347\text{ кг} + 847\text{ кг} = 2194\text{ кг}$  брашно                       $2143\text{ кг} + 847\text{ кг} = 2990\text{ кг}$  брашно
- Туристи изминали 6324 км със самолет, 6 пъти по-малко километри – с автобус, и с влак – 2 пъти по-малко километри, отколкото със самолет и автобус общо. Колко километра общо са изминали туристите?



Лице на  
правоъгълник.  
Геометрични  
тела

- Измери страните и намери лицето на оцветената фигура.



- Назови геометричните тела.

