


1 Запиши с цифри числата.

а 2 млн. + 5 хил. + 3 дес. =

1 хил. + 2 стот. + 8 дес. + 10 ед. =

3 десетохил. + 6 хил. + 1 стот. + 14 дес. =

б Свържи равните числа.

<input type="text" value="10"/>		<input type="text" value="IV"/>
<input type="text" value="4"/>		<input type="text" value="XVI"/>
<input type="text" value="16"/>		<input type="text" value="X"/>

2 Пресметни. $8000 + 200 =$ _____ $2000 \cdot 4 =$ _____ $142 \cdot 20 =$ _____
 $2500 - 500 =$ _____ $12\ 000 : 3 =$ _____ $6090 : 30 =$ _____

3 Пресметни. **а**

<input type="text" value="1824"/> + <input type="text" value="3058"/> ----- <input type="text"/>	<input type="text" value="37 493"/> + <input type="text" value="5 025"/> ----- <input type="text"/>	б	<input type="text" value="52 876"/> - <input type="text" value="4 204"/> ----- <input type="text"/>	<input type="text" value="138 642"/> - <input type="text" value="51 290"/> ----- <input type="text"/>
--	---	----------	---	---

4 Пресметни.

а $2612 \cdot 3$ ----- <input type="text"/>	б $6245 : 5 =$ _____	$28\ 101 : 3 =$ _____	$6336 : 6 =$ _____
$15\ 082 \cdot 4$ ----- <input type="text"/>	<input type="text"/>	<input type="text"/>	<input type="text"/>

5 Пресметни.

а $186 \cdot 24$ ----- <input type="text"/>	б $2376 : 18 =$ _____	$1323 : 21 =$ _____	$136\ 680 : 34 =$ _____
$1406 \cdot 15$ ----- <input type="text"/>	<input type="text"/>	<input type="text"/>	<input type="text"/>

6 По дадения текст състави числов израз и го пресметни.

а Към частното на числата 1272 и 4 прибави произведението на числата 149 и 18. ----- ----- -----	б От произведението на числата 2675 и 6 извади частното на числата 34 850 и 17. ----- ----- -----
--	---

7 Намери неизвестното число.

$16\ 080 - \square = 5200$

$4080 : \square = 6$

$24\ 528 : \square = 14 \cdot 3$

8 Попълни.

$2\text{ км } 120\text{ м} = \square\text{ м}$

$2\text{ ч} = \square\text{ мин}$

$2\text{ кв. см} = \square\text{ кв. мм}$

$12\text{ кг } 500\text{ г} = \square\text{ г}$

$480\text{ мин} = \square\text{ ч}$

$3\text{ дка} = \square\text{ кв. м}$

9 Едната страна на правоъгълен земен участък е 82 м, а другата е със 118 м по-дълга. Колко квадратни метра е лицето на този участък?


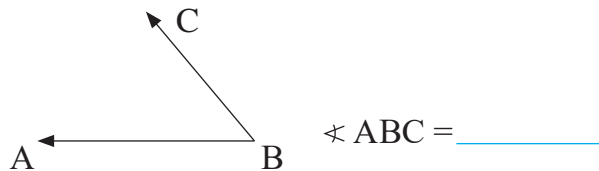
10 От една нива набрали 1150 кг царевица, от друга – с 380 кг повече, а от трета – четири пъти по-малко отколкото от първата и втората нива общо. Царевицата, получена от трите ниви, насипали в чували по 25 кг. Колко чувала са напълнили?



11 а Начертай окръжност с център т. О и радиус 2 см 2 мм.



б Определи големината на $\sphericalangle ABC$. Начертай ъгъл, с 30° по-голям от $\sphericalangle ABC$.



в Определи вида на геометричните тела.

