

**ТЕСТ ЗА ИЗХОДНО НИВО „ГЕОГРАФИЯ НА ОБЩЕСТВОТО, РЕГИОНИТЕ И СТРАНИТЕ“
ВАРИАНТ 1**

Име, фамилия клас №

1. Оградете правилните твърдения:


- А) Границите очертават суверенните територии на всяка страна.
- Б) При представителната демокрация гражданите осъществяват непосредствено своето право на вземане на политически решения.
- В) Правителството е най-високата законодателна институция, която разработва и приема конституцията и законите на страната.
- Г) Повечето национални държави се създават през XIX и XX в., но най-съществените промени се извършват след Първата и Втората световна война.

2. Попълнете пропуснатите понятия и факти в текста.


Около _____% от населението на Земята обитава 7% от земната суша. Но и на тази територия то не е разпределено _____. Около 80% от хората живеят в места с надморска височина до _____. Заселени са главно _____ на континентите.

**3. С коя от видовете структури на населението свързвате из-
ображението?**

- А) етническа Б) религиозна
- В) полово-възрастова Г) езикова



4. Допълнете липсващите понятия в схемата.



5. Разположете изброените понятия така, че да съответстват на дефинициите.

- икономически растеж, световно стопанство, БНП
- _____ – Исторически формирала се система от националните стопанства на страните в света.
- _____ – Стойността на произведените стоки и услуги чрез националните икономики на държавите.
- _____ – Нарастването на БВП и БНП, свързано с повишаването на жизнения стандарт и националните доходи на населението за определен период.

6. Запишете стопанския отрасъл, за който се отнася всяко от изображенията.



7. Коя от групите включва термини само от един промишлен отрасъл?

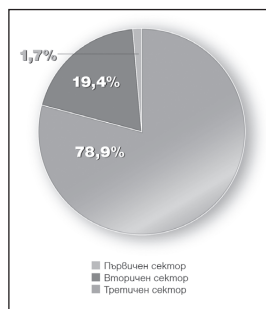
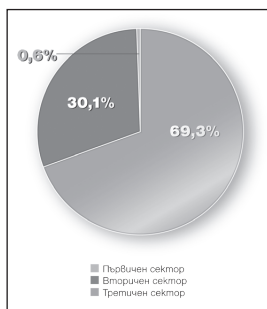
- А) въглища, геотермални електроцентрали, прокат, автомобилостроене
- Б) корабостроене, радиоапарати, приборостроене, битова техника
- В) хидроенергийни ресурси, чугун, лекарства, перилни препарати
- Г) флотационни фабрики, парфюмерия, стомана, пропан-бутан

8. Напишете три примера за отрасли от третичния сектор, които предоставят услуги, насочени към задоволяване на материалните потребности на обществото:

9. Запишете понятията, които съответстват на твърденията:

- _____ – пълна отмяна на митническите тарифи във взаимната търговия при запазване на националните митнически тарифи в отношенията с трети страни.
- _____ – създаване на общи външни мита между страните членки на определена организация срещу страните нечленки (трети страни).

10. Сравнете структурата на БВП на Германия и Франция. Запишете по една съществена прилика и разлика.



Прилика _____

Разлика _____

11. Разпознайте по контурите азиатските страни. Запишете наименованията им, столицата и формата на управление.



12. Кое е общото и различното между изброените географски обекти?

Великата китайска стена, манастирът Шаолин, Агра

13. Оградете твърдението, което НЕ може да се формулира, ако за източник на информация се използва политическата карта на регион Северна Америка.

- А) Канада и САЩ са най-големите по площ страни в региона.
- Б) Белмопан е столицата на Белиз, а Сан Хосе на Коста Рика.
- В) Хондурас и Никарагуа са сред най-слаборазвитите страни.
- Г) Гватемала граничи с Мексико, Белиз, Хондурас и Салвадор.

14. Отговорете с една дума на всеки от въпросите за Бразилия.

- Кой тип климат преобладава в страната? _____
- Кой е официалният език в Бразилия? _____
- Коя религия изповядва преобладаващата част от населението? _____
- Коя е най-изнасяната стока за световния пазар? _____

15. За коя от изброените страни се отнася описанието:

Има широк излаз на Атлантическия и Индийския океан. Климатът е тропичен и субтропичен. Земеделието се развива само на 1/5 от територията на страната. Автомобилостроенето, текстилната и хранително-вкусовата промишленост са сред водещите отрасли. Има три столици.

- А) РЮА
- Б) Нова Зеландия
- В) Австралийски съюз
- Г) Науру

Максимален възможен брой точки:

По скалата за оценяване от до точки

Индивидуален брой точки:

Оценка:

Подпис на учителя:

ОТГОВОРИ

№ на въпрос	ВАРИАНТ 1	Брой точки
1	А) Границите очертават суверенните територии на всяка страна. Г) Повечето национални държави се създават през XIX и XX в., но най-съществените промени се извършват след Първата и Втората световна война.	2
2	70, равномерно, 500 m, крайбрежията	4
3	В) полово-възрастова	1
4	географско положение, равнинни, крайбрежни, градове	4
5	световно стопанство, БНП, икономически растеж	3
6	Дърводобив, лов и риболов	2
7	Б) корабостроене, радиоапарати, приборостроене, битова техника	1
8	транспорт, търговия, банково дело и финанси или др.	3
9	зона на свободна търговия, митнически съюз	2
10	Например Прилика: водещ е третичният сектор Разлика: Вторичният сектор заема значително по-висок относителен дял в стопанството на Германия, отколкото в това на Франция.	4
11	Китай, Пекин, република Южна Корея, Сеул, република	4
12	Значими за развитието на туризма в двете страни обекти Двата обекта са в Китай, а Агра – в Индия.	4
13	В) Хондурас и Никарагуа са сред най-слаборазвитите страни.	1
14	субекваториален, португалски, католицизъм (християнство), кафе	4
15	А) РЮА	1
	Общ брой точки:	40

СКАЛА ЗА ОЦЕНЯВАНЕ ПРИ МАКСИМАЛЕН БРОЙ 40 ТОЧКИ

ОТНОСИТЕЛЕН ДЯЛ	БРОЙ ТОЧКИ	ОЦЕНКА
до 25%	до 10	Слаб 2
26 – 40%	11 – 16	Среден 3
41 – 60%	17 – 24	Добър 4
61 – 80%	25 – 32	Много добър 5
81 – 100 %	33 – 40	Отличен 6