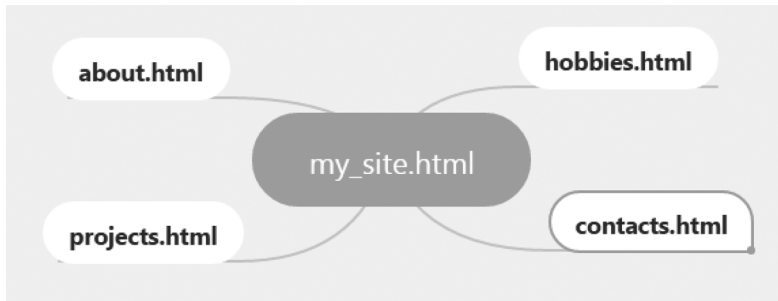


ИЗХОДНО НИВО

1. Кое от изброените ще бъде използвано от ОС за комуникиране с хардуера?
А) драйвери на устройството
Б) системният BIOS
В) командният ред
Г) менюто Start
2. Картата на сайта показва:
А) структурата на сайта
Б) посещаемостта на страниците
В) веб адреса, на който е публикуван сайтът
Г) авторите на сайта
3. Кое от изброените НЕ е етап от разработването на веб сайт?
А) проектиране
Б) популяризиране
В) поддръжка
Г) преглеждане
4. Кой от графичните формати е подходящ за включване в веб страница?
А) bmp
Б) jpg
В) psd
Г) raw
5. Коя част от веб адреса http://personal.sites.bg/ivan_petrov/index.html показва домейна от първо ниво, в който е публикуван сайтът?
А) personal
Б) sites
В) ivan_petrov
Г) bg
6. Коя от ролите НЕ е основна при работа в екип?
А) ръководител
Б) консултант
В) изпълнител
Г) наблюдател
7. Кое от посочените средства може да използвате за планиране на работата по проект?
А) PhotoShop
Б) GanttProject
В) Mozilla Firefox
Г) PHP
8. Кое от изброените НЕ е критерий при избора на хостинг?
А) платформа за публикуване
Б) ресурси за хостинг
В) местоположение на офиса
Г) разходи за поддръжка
9. Кой от файловете ще бъде намерен със заявката `te?.d?*`
А) te.doc
Б) test.doc
В) tes.do
Г) tes.doc

10. Коя е началната страница в показаната структура на сайт?



- A) about.html B) my_site.html
Б) contacts.html Г) projects.html

11. По време на инсталация на нов софтуер излиза съобщение да въведете администраторска парола. Коя е възможната причина за това?

- A) Влезли сте в системата с потребителски акаунт без административни права.
Б) Инсталаторът проверява дали не сте оставили компютъра без надзор.
B) Няма достатъчно място на твърдия диск и инсталаторът извежда първото възможно съобщение.
Г) Пропуснали сте да посочите някой от детайлите в началния екран на инсталатора.

12. Разучавате ново приложение и се интересувате от дадена функционалност. Къде ще потърсите отговор?

- A) в настройките на приложението
Б) в помощната система към приложението
B) в контролния панел „Програми“ на ОС
Г) в помощния прозорец на операционната система





13. Кое от изброените е разширение на архивен файл?

- A) .7z Б) .ar B) .rir Г) .docz

14. Времето за реакция е характеристика на:

- A) диска B) принтера
Б) процесора Г) монитора

15. Иконата на операционната система Android е:

- A)  B) 
Б)  Г) 

Верните отговори на въпросите от теста са:

Въпрос	1	2	3	4	5	6	7	8	9	10	11	12	13	14	15
Отговор	А	А	Г	Б	Г	Г	Б	В	Б	В	А	Б	А	Г	В