

ТЕСТ – ИЗХОДНО НИВО

II група

1. **Кое твърдение за географското положение и границите на Европа НЕ е вярно?** 1 т.
 - А) Пресича се от Гринуичкия меридиан.
 - Б) Разположена е изцяло в Източното полукълбо.
 - В) Граничи с Атлантическия и Северния ледовит (Арктичния) океан.
 - Г) Пресича се от Северната полярна окръжност.

2. **Кое твърдение за релефа на Европа е вярно?** 1 т.
 - А) Има голяма средна надморска височина.
 - Б) Евразийската литосферна плоча е част от древния континент Гондвана.
 - В) Най-високият връх в континента е Монблан в Алпите.
 - Г) Скандинавските планини и Урал са едни от най-старите по възраст в континента.

3. **Континенталният умерен климат в Европа се характеризира:** 1 т.
 - А) с мека, влажна зима и сухо, горещо лято
 - Б) с дълга, много студена зима и кратко, прохладно лято
 - В) с мека зима, сравнително хладно лято и целогодишни валежи
 - Г) със снежна, студена зима и сухо, горещо лято

4. **За коя европейска река се отнася характеристиката?** 1 т.

Извират от Алпите, тече на северозапад и се влива чрез делта в Северно море. В горното си течение е планинска река с прагове и водопади, а в долното течение е плавателна.

А) Рейн Б) По В) Волга Г) Дунав

5. **По-голямата част от населението в Източна Европа са:** 1 т.

А) мюсюлмани Б) протестанти В) католици Г) православни

6. **В коя група държави всички са монархии?** 1 т.

А) Украйна, Русия, Беларус Б) Австрия, Германия, Италия

В) Испания, Великобритания, Ватикан Г) Гърция, Албания, Словения

7. **Добивът на нефт и природен газ е силно развит в:** 1 т.

А) Русия Б) Италия В) Швеция Г) Франция

8. **Коя от страните е обозначена на картосхемата с цифра 1?** 1 т.

А) Украйна

Б) Германия

В) Франция

Г) Финландия



9. **За коя страна в Европа се отнася описанието?** 1 т.
Атлантическа и средиземноморска страна със силно развита икономика. Тя е една от основателките на ЕС. Известна е с производството на атомна енергия, самолети, автомобили, вина, сирена и козметика.
 А) Великобритания Б) Италия В) Франция Г) Гърция
10. **Кое твърдение за границите, природата, населението и страните на Балканския полуостров НЕ е вярно?** 1 т.
 А) Граничи с Черно, Мраморно, Егейско, Йонийско и Адриатическо море.
 Б) Преобладава планинският релеф.
 В) От славянската езикова група е езикът на хърватите, сърбите и словенците.
 Г) Северна Македония, Сърбия и Косово имат развит морски транспорт.
11. **В коя двойка „държавна граница – граничен контролно-пропускателен пункт“ е допусната ГРЕШКА?** 1 т.
 А) със Сърбия – Калотина
 Б) с Турция – Капитан Андреево
 В) с Румъния – Гюешево
 Г) с Гърция – Кулата
12. **Каолин, гипс и каменна сол се добиват в:** 1 т.
 А) Дунавската равнина Б) Стара планина
 В) Горнотракийската низина Г) Родопите
13. **С коя климатична област на България свързвате данните от климатограмата?** 1 т.
 А) умереноконтинентална
 Б) черноморска
 В) континентално-средиземноморска
 Г) преходноконтинентална
- | Month | Temperature (°C) | Precipitation (mm) |
|-------------------|------------------|--------------------|
| Jan | 13.6 | ~40 |
| Feb | ~10 | ~40 |
| Mar | ~15 | ~40 |
| Apr | ~20 | ~40 |
| May | ~23 | ~40 |
| Jun | ~23.5 | ~40 |
| Jul | ~23.5 | ~40 |
| Aug | ~20 | ~40 |
| Sep | ~15 | ~40 |
| Oct | ~10 | ~40 |
| Nov | ~5 | ~40 |
| Dec | ~0 | ~40 |
| Year Total | | 670 |
14. **Коя група реки НЕ е част от отточната област на Черно море?** 1 т.
 А) Вит, Осъм, Янтра
 Б) Резовска, Велека, Камчия
 В) Струма, Марица, Тунджа
 Г) Искър, Огоста, Ропотамо
15. **Част от коя природна област на България са Шуменското, Лудогорското и Добруджанското плато?** 1 т.
 А) Краищенско-Средногорската
 Б) Тракийско-Странджанската
 В) Старопланинската
 Г) Дунавската равнина
16. **Кое е общото за Стара планина и Предбалкана?** 1 т.
 А) Имат еднаква средна надморска височина.
 Б) От тях водят началото си дълги реки.
 В) Разположени са в една и съща природна област.
 Г) В тях са се образували ледникови форми.

- 17. Къде в Тракийско-Странджанската област са разпространени лавровишната и зелениката?** 1 т.
- А) в Сакар Б) в Странджа
 В) в Горнотракийската низина Г) в Бургаската низина
- 18. За коя планина се отнася характеристиката?** 1 т.
- Планината има продълговата форма, стръмни склонове, остри мраморни била и множество ледникови езера. В местния национален парк расте най-старото иглолистно дърво в България.*
- А) Стара планина Б) Пирин В) Родопи Г) Рила
- 19. Кой географски обект НЕ се намира в Родопите?** 1 т.
- А) връх Голям Перелик Б) водопад Райско пръскало
 В) долината на река Арда Г) пещера Дяволско гърло
- 20. Кое твърдение за населението на България е вярно?** 1 т.
- А) След 1989 г. броят на населението непрекъснато се увеличава.
 Б) Най-голяма е гъстотата на населението в Краището и Странджа.
 В) Основната част от населението живее в селата.
 Г) Средната възраст на населението нараства, т.е. то застарява.
- 21. Колко областни градове има според административно-териториалното деление на България?** 1 т.
- А) 28 Б) 257 В) 5000 Г) 5257
- 22. Най-големият нефтохимически комбинат в България се намира край град:** 1 т.
- А) Пловдив Б) Бургас В) Плевен Г) Варна
- 23. В кой от посочените райони се отглежда маслодайна роза?** 1 т.
- А) в Добруджа
 Б) в долината на река Места
 В) в Санданско-Петричката котловина
 Г) в Карловската котловина
- 24. В Сливен е поставено началото на фабричното производство в България и до днес градът е център за производство на:** 1 т.
- А) вълнени тъкани Б) лекарства В) хартия Г) черни метали
- 25. Кой от изброените градове НЕ е център на балнеолечебния туризъм?** 1 т.
- А) Велинград Б) Сандански В) Русе Г) Хисаря
- 26. Напишете три характеристики, които са общи за Великобритания и Франция.** 6 т.
-
-
-
-
-

27. За кой географски обект на Балканския полуостров се отнася характеристиката?

2 т.

Тя е планинска верига, южно разклонение на Алпо-Хималайската планинска система. Разположена е в западната част на полуострова, успоредно на Адриатическо море. По западните ѝ склонове е измерено най-голямото количество на валежите в Европа.

28. Обозначете върху картосхемата:
с цифра 1 – Пиренейски полуостров;
с цифра 2 – проток Ламанш;
с цифра 3 – остров Исландия.

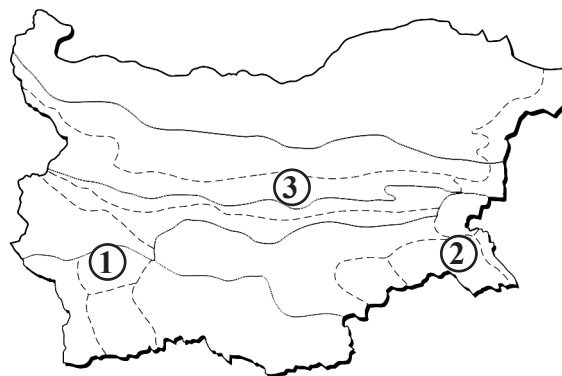
6 т.



29. Напишете имената на природните подобласти, които са обозначени с цифров код върху картосхемата.

6 т.

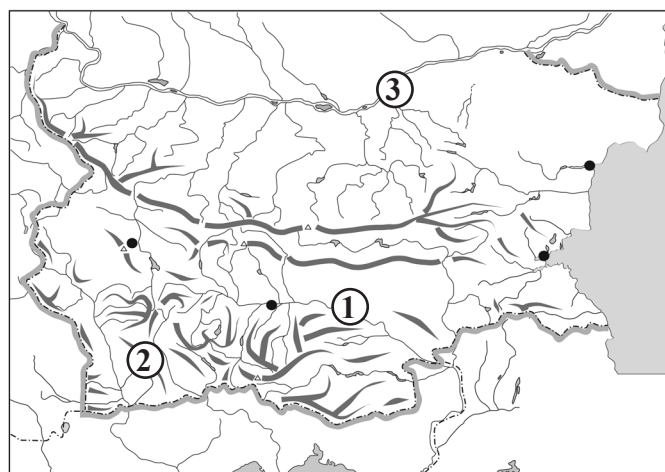
- 1 _____
2 _____
3 _____



30. Напишете имената на обектите, които са обозначени с цифров код върху картосхемата.

6 т.

- 1 река _____
2 връх _____
3 град _____



Слаб 2	Среден 3	Добър 4	Много добър 5	Отличен 6
0 – 15	16 – 24	25 – 33	34 – 42	43 – 51

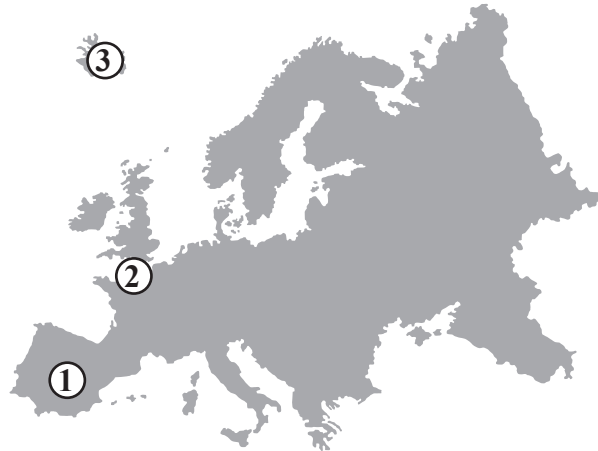
ТЕСТ – ИЗХОДНО НИВО – 2. ГРУПА

1 – Б; 2 – Г; 3 – Г; 4 – А; 5 – Г; 6 – В; 7 – А;
8 – Б; 9 – В; 10 – Г; 11 – В; 12 – А; 13 – В; 14 – В;
15 – Г; 16 – В; 17 – Б; 18 – Б; 19 – Б; 20 – Г; 21 – А;
22 – Б; 23 – Г; 24 – А; 25 – В.

26 – Примерен отговор. Икономически силно развити страни; разположени в Западна Европа; произвеждат автомобили, самолети и електроника. (3 x 2 т. = 6 т.)

27 – Динарски планини.

28 – (виж картата). (3 x 2 т. = 6 т.)



29 – 1 – Рила; 2 – Странджа; 3 – Стара планина. (3 x 2 т. = 6 т.)

30 – 1 – река Марица; 2 – връх Вихрен; 3 – град Русе. (3 x 2 т. = 6 т.)