

ТЕСТ – ИЗХОДНО НИВО

I група

1. **Кое твърдение за географското положение и границите на Европа е вярно?** 1 т.
 - А) Пресича се от Северната тропична окръжност.
 - Б) Разположена е изцяло в Северното полукълбо.
 - В) Разположена е изцяло в Западното полукълбо.
 - Г) Има обща граница по суша с Африка.

2. **Кое твърдение за релефа на Европа НЕ е вярно?** 1 т.
 - А) Произхожда от древния континент Лавразия.
 - Б) Той е най-ниският континент на Земята.
 - В) Връх Елбрус в Кавказ е най-високият в континента.
 - Г) Около 75% от територията ѝ е заета от планини.

3. **Океанският умерен климат в Европа се характеризира с:** 1 т.
 - А) мека зима, сравнително хладно лято и целогодишни валежи
 - Б) снежна, студена зима и сухо, горещо лято
 - В) мека, влажна зима и сухо, горещо лято
 - Г) дълга, много студена зима и кратко, прохладно лято

4. **За коя европейска река се отнася характеристиката?** 1 т.
Извират от Валдайското възвишение и се влива в Каспийско море чрез делта. Пълноводна е през пролетта. Плавателна е.
 - А) По
 - Б) Рейн
 - В) Дунав
 - Г) Волга

5. **В коя част на Европа православно християнство е основна религия?** 1 т.
 - А) в Северна Европа
 - Б) в Западна Европа
 - В) в Южна Европа
 - Г) в Източна Европа

6. **В коя група държави всички са републики?** 1 т.
 - А) Чехия, Франция, Хърватия
 - Б) Нидерландия, Дания, Швеция
 - В) Великобритания, Белгия, Ватикан
 - Г) Испания, Норвегия, Монако

7. **В Източноевропейската равнина, в Прикаспийската низина и в шелфа на Северно море е развит добивът на:** 1 т.
 - А) железни и медни руди
 - Б) каменна и калиева сол
 - В) нефт и природен газ
 - Г) каолин и сяр

8. **Коя от страните е обозначена на картосхемата с цифра 1?** 1 т.
 - А) Испания
 - Б) Украйна
 - В) Германия
 - Г) Франция

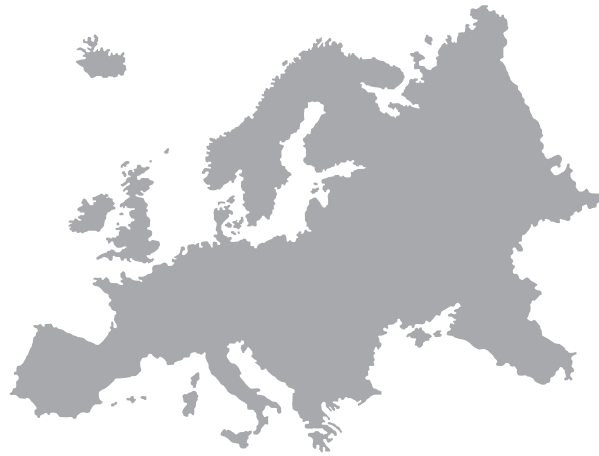


9. За коя страна в Европа се отнася описанието? 1 т.
Полуостровната република е наследник на древна държава. Тя е една от основателките на ЕС. Известна е с производството на автомобили, тестени изделия, зехтин и вина.
 А) Русия Б) Швеция
 В) Гърция Г) Италия
10. Кое твърдение за границите, природата, населението и страните на Балканския полуостров НЕ е вярно? 1 т.
 А) Черно, Мраморно и Егейско море отделят полуострова от Азия.
 Б) Около 1/3 от територията на полуострова е заета от равнини и низини.
 В) От славянската езикова група е езикът на румънците, гърците и албанците.
 Г) Хърватия, Словения и Черна гора имат развит морски транспорт.
11. В коя двойка „държавна граница – граничен контролно-пропускателен пункт“ е допусната ГРЕШКА? 1 т.
 А) с Гърция – Кулата
 Б) с Турция – Капитан Андреево
 В) със Северна Македония – Гюешево
 Г) със Сърбия – Видин
12. В Маришкия басейн се добиват: 1 т.
 А) въглища Б) медни руди
 В) железни руди Г) каолин
13. С коя климатична област на България свързвате данните от климатограмата? 1 т.
 А) умереноконтинентална
 Б) планинска
 В) континентално-средиземноморска
 Г) преходноконтинентална
- Климатограма с температура (°C) и валежи (mm) по месеци (я, ф, м, а, м, ю, ю, а, с, о, н). Температурата е 10,6° в януари и 25,9° в юли. Общата валежна норма е 574 mm.

Месец	Температура (°C)	Валежи (mm)
я	10,6	~20
ф	~5	~30
м	~10	~40
а	~15	~50
м	~20	~60
ю	25,9	~70
ю	~20	~60
а	~15	~50
с	~10	~40
о	~5	~30
н	~0	~20
14. Коя група реки е част от отточната област на Егейско море? 1 т.
 А) Огоста, Вит, Янтра
 Б) Камчия, Ропотамо, Велека
 В) Искър, Осъм, Резовска
 Г) Струма, Марица, Тунджа
15. Кои почви заемат най-голяма площ в Дунавската равнина? 1 т.
 А) черноземни Б) канелени горски
 В) кафяви горски Г) смолници
16. Предбалканът и Стара планина се различават по: 1 т.
 А) възраст
 Б) надморска височина
 В) форма
 Г) наличието на пещери

28. Обозначете върху картосхемата:
с цифра 1 – Скандинавски
полуостров;
с цифра 2 – Бискайски залив;
с цифра 3 – остров Сицилия.

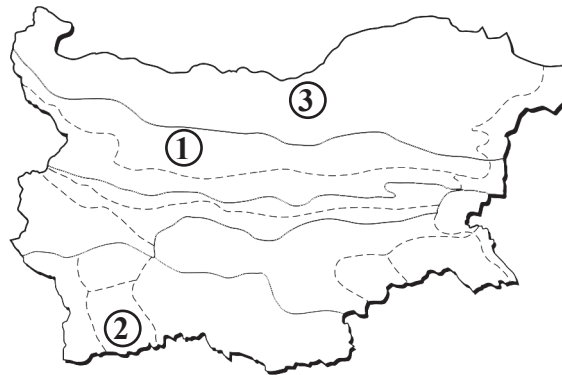
6 т.



29. Напишете имената
на природните области и подобласти
които са обозначени
с цифров код върху картосхемата.

6 т.

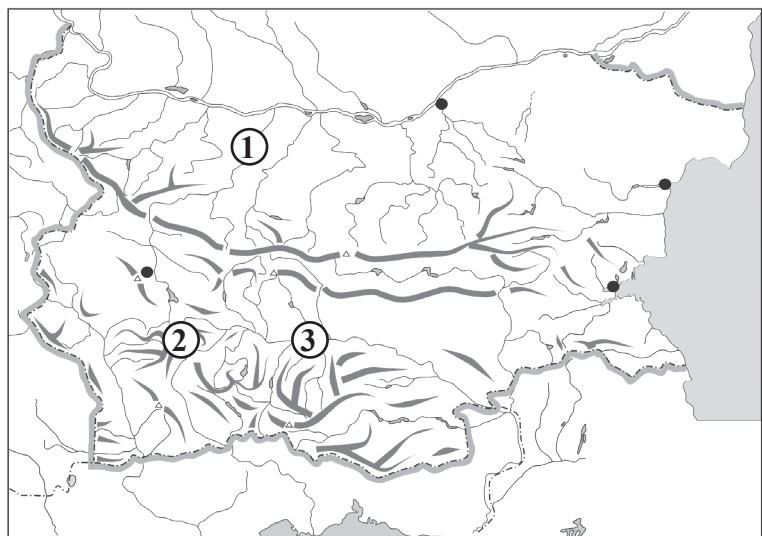
- 1 _____
2 _____
3 _____



30. Напишете имената на обектите,
които са обозначени с цифров
код върху картосхемата.

6 т.

- 1 река _____
2 връх _____
3 град _____



Слаб 2	Среден 3	Добър 4	Много добър 5	Отличен 6
0 – 15	16 – 24	25 – 33	34 – 42	43 – 51

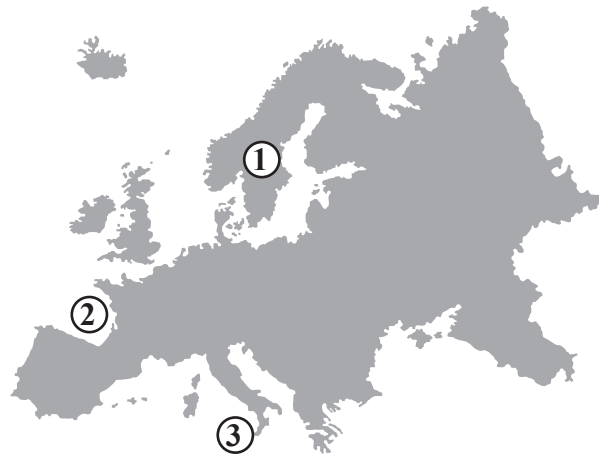
ТЕСТ – ИЗХОДНО НИВО – 1. ГРУПА

1 – Б; 2 – Г; 3 – А; 4 – Г; 5 – Г; 6 – А; 7 – В;
8 – Г; 9 – Г; 10 – В; 11 – Г; 12 – А; 13 – А;
14 – Г; 15 – А; 16 – Б; 17 – Г; 18 – А; 19 – Б; 20 – Б;
21 – В; 22 – Г; 23 – А; 24 – Б; 25 – В.

26 – Примерен отговор. Икономически силно развити страни; произвеждат автомобили, самолети и електроника; имат излаз на море. (3 x 2 т. = 6 т.)

27 – Олимп.

28 – (виж картата). (3 x 2 т. = 6 т.)



29 – 1 – Предбалкан; 2 – Пирин; 3 – Дунавска равнина. (3 x 2 т. = 6 т.)

30 – 1 – река Искър; 2 – връх Мусала; 3 – град Пловдив. (3 x 2 т. = 6 т.)