






ИЗХОДНО НИВО

1. С коя основна информационна дейност се свързват носителите на информация?
 А) Събиране
 Б) Съхраняване
 В) Обработване
 Г) Разпространяване
2. При изтриване на файл от файловата система той се:
 А) премества в буфера
 Б) изпразва от съдържание
 В) поставя в кошчето
 Г) изхвърля от системата
3. Кое от следните действия НЕ се отнася до форматиране на страница в текстов документ?
 А) Избор на разположение на листа
 Б) Вмъкване на номерация на страниците
 В) Задаване размер на наборното поле
 Г) Отпечатване на страниците
4. Кое позициониране на изображението на звънеца спрямо текста е най-удачно да се избере при оформлението на флаера?
 А) Пред текста 
 Б) Зад текста 
 В) В текста 
 Г) През текста 
-
5. Кой от изброените графични файлови формати позволява запазване на изображения с прозрачни части?
 А) gif Б) jpeg В) bmp Г) wmf
6. Под *контраст на изображение* се разбира:
 А) разликата между най-тъмните и най-светлите части на изображението
 Б) разликата между най-цветните и най-безцветните части на изображението
 В) цялостно осветеността в изображението
 Г) цялостно яркостта в изображението
7. Ако трябва да намалите разделителната способност на изображение, кое от действията следва да предприемете?
 А) Изсветляване Б) Накланяне
 В) Преоразмеряване Г) Завъртане
8. Съдържанието на клетка с час се визуализира по следния начин `#####`. Каква е причината?
 А) Въведена е формула за аритметични пресмятания
 Б) Използвана е вградена функция с грешни данни
 В) Форматът на часа по-дълъг от ширината на клетката
 Г) Зададен е несъществуващ формат за час.
9. В електронна таблица от клавиатурата са въведени следните данни:
- | | A | B | C | D | E |
|---|-------------|--------|--------|--------|----------------|
| 1 | Скачане (m) | Опит 1 | Опит 2 | Опит 3 | Най-добър опит |
| 2 | Петър | 1.43 | 1.45 | 1.47 | MAX(B2:D2) |
| 3 | Никола | 1.51 | 1.49 | 1.50 | |
| 4 | Ани | 1.34 | 1.36 | 1.34 | |
- Какво ще се изведе в клетка **E2**, при потвърждаване?
 А) 1,47 Б) #VALUE В) 4,35 Г) MAX(B2:D2)
10. Форматирането на графичен обект на слайд включва:
 А) задаване на цвят на контура на обекта
 Б) добавяне на аудио файл към слайда
 В) добавяне на изображение от интернет
 Г) задаване на времетраене на слайда
11. Начинът на появяване на изображение на слайд е:
 А) звуков ефект
 Б) преход между слайдове
 В) анимационен ефект
 Г) настройка на слайдшоу
12. Кое от следните приложения е предназначено за онлайн комуникация в реално време?
 А) Google Б) Skype В) Mozilla Г) Flickr
13. Знакът  върху електронен ресурс означава:
 А) запазени авторски права
 Б) отмяна на запазени права
 В) обществено достояние
 Г) права за творческо споделяне
14. Костенурката `robi` изпълнява програмният код със спуснат молив. Коя фигура ще нарисова?
- ```
def fig(side):
 for step in range(3):
 robi.forward(side)

 robi.right(120)

side = 150
for count in range(3):
 fig(side)
 side = side - 20
```
- 
15. Коя библиотека трябва да се зареди в Python, за да може да се генерират случайни стойности?  
 А) import    Б) turtle    В) random    Г) time

## ИЗХОДНО НИВО

Верните отговори на въпросите от теста са:

|         |   |   |   |   |   |   |   |   |   |    |    |    |    |    |    |
|---------|---|---|---|---|---|---|---|---|---|----|----|----|----|----|----|
| Въпрос  | 1 | 2 | 3 | 4 | 5 | 6 | 7 | 8 | 9 | 10 | 11 | 12 | 13 | 14 | 15 |
| Отговор | Б | В | Г | Б | А | А | В | В | Г | А  | В  | Б  | Г  | Б  | В  |