

Ангел Ангелов
Даниела Дурева-Тупарова
Георги Тупаров
Катерина Марчева
Катя Стоянова







КОМПЮТЪРНО МОДЕЛИРАНЕ И ИНФОРМАЦИОННИ ТЕХНОЛОГИИ

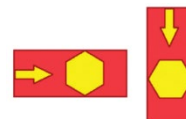


5
клас



КАКВО НАУЧИХТЕ В 5. КЛАС?

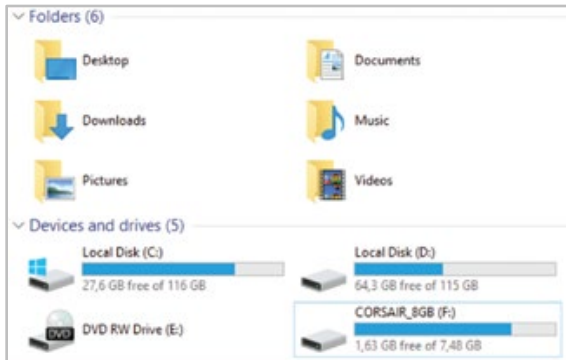
1. Вярно ли е, че системният блок изпълнява дейности по съхранение и обработване на информация?
А) Да Б) Не
2. Вярно ли е, че микрофонът е входно устройство за завъвеждане на таблична информация?
А) Да Б) Не
3. Вярно ли е, че един файл може да съдържа няколко папки?
А) Да Б) Не
4. Вярно ли е, всяка променлива, създадена в среда за блоково програмиране, има име и стойност?
А) Да Б) Не
5. Вярно ли е, че получено на електронната поща писмо може да се препрати на много получатели едновременно?
А) Да Б) Не
6. Вярно ли е, че две различни уебстраници може да имат един и същ уебадрес?
А) Да Б) Не
7. Получавате електронно писмо, в което ви съобщават за голяма печалба от лотария и желаят да изпратите личните си данни. Редно ли е да го направите?
А) Да Б) Не
8. Вярно ли е, че клетката **B2** се намира във втора колона и втори ред?
А) Да Б) Не
9. Вярно ли е, че един символ може да бъде едновременно с размер 12 и 20 пункта?
А) Да Б) Не
10. Вярно ли е, че един абзац може да бъде подравнен едновременно от лявата и от дясната страна?
А) Да Б) Не
11. Вярно ли е, че при форматиране на клетка в електронна таблица може да се промени нейният фон?
А) Да Б) Не
12. Вярно ли е, че кодът на собствен блок (подпрограма) може да се използва от няколко героя?
А) Да Б) Не
13. Коя от посочените програми е браузър?
А) Paint
Б) Word
В) Excel
Г) Microsoft Edge
14. Кое от посочените е търсеща машина?
А) Bing
Б) PowerPoint
В) Excel
Г) Paint
15. Посочете правилно написания адрес за електронна поща.
А) el_adres@com
Б) pit_89@mp3
В) piano@gmail.com
Г) mimi2006#gmail.com
16. Колко промени са направени при форматирането на думата „Кокиче“ в „*Кокиче*“?
А) 5 Б) 4 В) 3 Г) 2
17. Скритите (непечатащи се) символи в **Word** се визуализират с инструмента:
А)  Б)  В)  Г) 
18. Какво преобразуване е направено с първото изображение, за да се получи второто?
А) хоризонтално обръщане
Б) завъртане на 90°
В) вертикално обръщане
Г) завъртане на 180°



19. Слайдът е основен елемент в програмата:

- А) Excel
- Б) PowerPoint
- В) Word
- Г) Paint

20. Като използвате фигурата, попълнете таблицата.



Устройства	Брой	Логическо име
Папки		
Локални дискове		
CD/DVD устройство		
Флашпамет		

21. Кой от дадените файлове е звук?

- А) piano.docx
- Б) piano.mp3
- В) piano.xlsx
- Г) piano.png


22. Посочете кое може да е разширението на файл, създаден с програмата Excel.

- А) .xlsx
- Б) .pptx
- В) .png
- Г) .docx

23. Редовете и колоните в работното поле на програмата Excel са означени с:

- А) икони
- Б) бутони
- В) етикети
- Г) картинки

24. Началните стойности на променливите, използвани в кода, са $A = 5$, $B = 10$ и $C = 0$. Стойностите им след изпълнение на кода са:



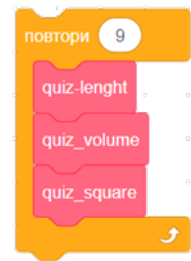
- А) $A = 5$, $B = 10$, $C = 0$
- Б) $A = 7$, $B = 10$, $C = 0$
- В) $A = 7$, $B = 10$, $C = 7$
- Г) $A = 7$, $B = 7$, $C = 7$

25. Собствени блокове (подпрограми) е подходящо да се използват, когато кодът:

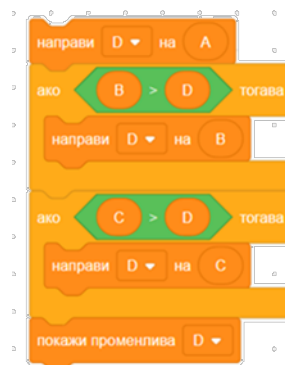
- А) има многократно повтарящи се части
- Б) няма повтарящи се части
- В) е много дълъг, но няма повтарящи се части
- Г) съдържа блокове за условие

26. Броят на собствените блокове, създадени (и използвани) в кода, е:

- А) 0
- Б) 3
- В) 9
- Г) 27



27. Алгоритъмът, използван в кода:



- А) разменя стойностите на променливите A и C
- Б) подрежда стойностите на три променливи по големина
- В) намира най-голямата стойност измежду стойностите на променливите A , B и C
- Г) намира най-малката стойност измежду стойностите на променливите A , B и C

ОТГОВОРИ

1. А); 2. Б); 3. Б); 4. А); 5. А); 6. Б); 7. Б); 8. А); 9. Б); 10. А); 11. А); 12. А); 13. Г);
14. А); 15. В); 16. В); 17. Б); 18. Б); 19. Б); 20. виж *; 21. Б); 22. А); 23. В); 24. Г);
25. А); 26. Б); 27. В)

*

Устройства	Брой	Логическо име
Папки	6	–
Локални дискове	2	C: и D:
CD/DVD устройство	1	E:
Флашпамет	1	F: