

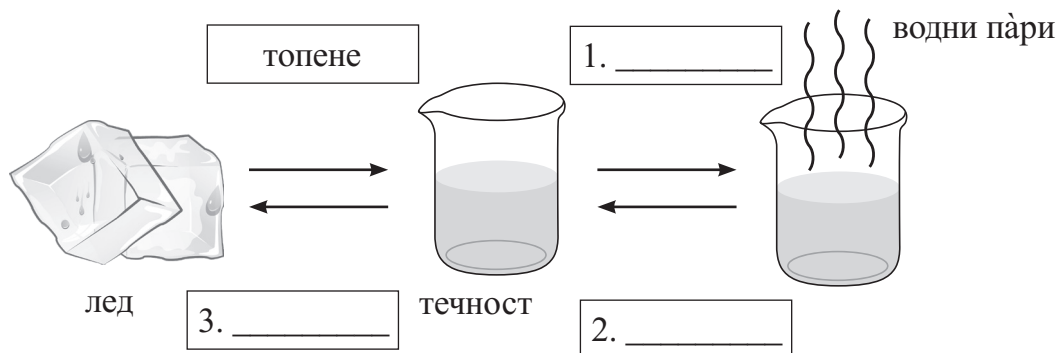
## ТЕСТ ЗА ИЗХОДНО НИВО В КРАЯ НА 4. КЛАС

### ПЪРВА ГРУПА

1. Кои тела се привличат от магнит? Огради буквите пред верните отговори.

- А) метален кламер                      Б) пластмасова бъркалка                      В) игла за шиене  
Г) клечка за зъби                      Е) пирон

2. Запиши липсващите думи в схемата.



3. Допълни празните места в изреченията.

Понякога самолетите, които летят в небето, оставят след себе си следа. Когато тя е права линия, казваме, че движението е \_\_\_\_\_.

Стрелките на часовника са закрепени към една ос, около която обикалят. Такова движение се нарича \_\_\_\_\_.

4. Попълни празните места в изречението.

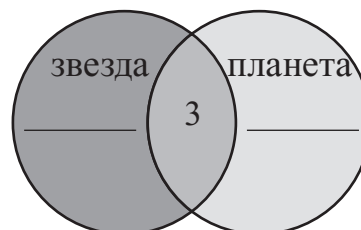
В топлоелектрическите централи енергията, получена от изгарянето на горивата, се превръща първо в \_\_\_\_\_, след това – в \_\_\_\_\_, и накрая – в електрична енергия.

5. Допълни изречението.

Луната обикаля около \_\_\_\_\_.

6. Постави липсващата информация в схемата.

1. Излъчва собствена светлина.
2. Свети с отразена светлина.
3. Има формата на кълбо.



**7. Запиши липсващите наименования на планетите.**



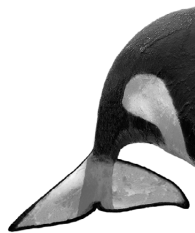
Меркури, \_\_\_\_\_ Земя, Марс, \_\_\_\_\_, Сатурн, Уран, \_\_\_\_\_

**8. Подчертай излишния представител във всяка група.**

*Водна среда на живот:* щука, клек, рооголистник, мида, тюлен

*Сухоземна среда на живот:* хвойна, пъдпъдък, тинтява, скат, мравка

**9. Кои са приспособленията, които служат на животните за движение във водата?  
Огради буквите на верните отговори.**



А)



Б)



В)



Г)



Д)

**10. Подчертай само земноводните животни.**

жаба, тритон, скат, дъждовник, щраус


**11. Подреди последователно етапите в развитието на бобеното растение.**



1



3



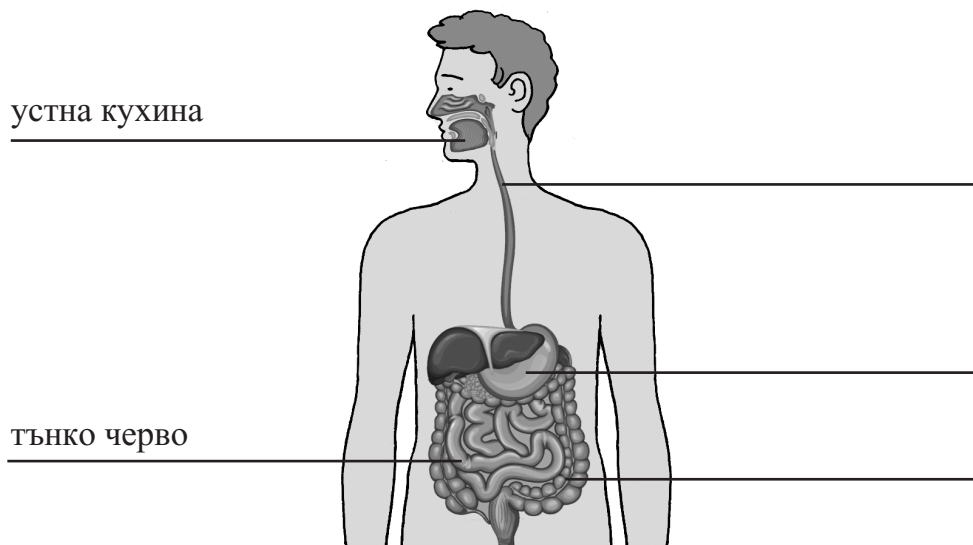
2



4

\_\_\_\_\_, \_\_\_\_\_, \_\_\_\_\_, \_\_\_\_\_

12. Допълни схемата, като запишеш липсващите наименования.



13. Какви промени настъпват в човешкото тяло през пубертета? Разпредели ги според пола, като запишеш номера на всяко от тях в съответната група. Бъди внимателен, защото някои от промените са общи за момчетата и за момичетата.

Момчета: \_\_\_\_\_

Момичета: \_\_\_\_\_

1. Раменете и гръдният кош се разширяват, развиват се мускулите.
2. Появяват се младежки пъпки и окосмяване по някои части на тялото.
3. Гласът става по-нисък и по-плътен.
4. Развиват се гърдите (бюстът).
5. Настроението често се променя.
6. Семенниците започват да произвеждат сперматозоиди.
7. Ханшът се разширява, оформя се талията.
8. Яйчниците започват да отделят яйцеклетки.

14. Подчертай само заразните болести.

рак, морбили, алергия, заушка, ангина

15. Подчертай веществата, които са вредни за нашето здраве.

катран, вода, алкохол, белтъци, наркотици

16. Колко градуса показва термометърът? Запиши.



\_\_\_\_\_

## ОТГОВОРИ (I група)

1 – А; В; Е;

2 – изпарение; втечняване; замръзване;

3 – праволинейно; въртене;

4 – топлинна енергия; енергия на движението;

5 – Земята;

6 – ляв кръг – 1; десен кръг – 2;

7 – Венера; Юпитер; Нептун;

8 – клек; скат;

9 – А; Б; Г;

10 – жаба; тритон; дъждовник;

11 – 3; 1; 4; 2;

12 – хранопровод; стомах; дебело черво;

13 – момчета – 1, 2, 3, 5, 6; момичета – 2, 4, 5, 7, 8;

14 – морбили; заушка; ангина;

15 – катран; алкохол; наркотици;

16 – 30°C