


КАКВО ЗНАМ ЗА БЪЛГАРСКАТА ДЪРЖАВА, НЕЙНИТЕ ГРАЖДАНИ И ПРИРОДА



- 1** В коя природна област липсват планини?
А) Черноморското крайбрежие В) Дунавската равнина
Б) Рило-Родопската област
- 2** Какви са лятото и зимата в Дунавската равнина?
А) горещо лято и снежна зима В) прохладно лято и топла зима
Б) прохладно лято и студена зима
- 3** Коя природна област е отбелязана на географската карта с най-разнообразни цветове?
А) Дунавската равнина Б) Старопланинската област В) Преходната област
- 4** Природата на кои природни области дава възможност да се строят пристанища?
А) Рило-Родопската област и Преходната област
Б) Дунавската равнина и Черноморското крайбрежие
В) Старопланинската област и Преходната област
- 5** Защо строежът на пътища в Горнотракийската низина е по-лесен, отколкото в Стара планина?
А) Повърхнината ѝ е низинна. В) Там лятото е много сухо.
Б) Там протичат много реки.
- 6** Как се нарича основният закон на една държава, който определя начина на управление, правата и задълженията на гражданите в нея?
А) демокрация Б) конституция В) цивилизация
- 7** Кое събитие се случва при управлението на княз Александър I Батенберг?
А) Победата на България в Балканската война.
Б) Обявяването на Независимостта на България.
В) Съединението на Източна Румелия с Княжество България.
- 8** Кой държавен символ се изобразява върху българските монети, печати и официални документи?
А) герб Б) химн В) карта
- 9** Коя забележителност на София е показана на снимката?
А) Националната художествена галерия
Б) Софийският университет
В) Храм-паметник „Свети Александър Невски“



10 Йордан Радичков и Ангел Каралийчев са български:

- А) цигулари Б) актьори В) писатели

11 Кой е държавният глава на Република България?

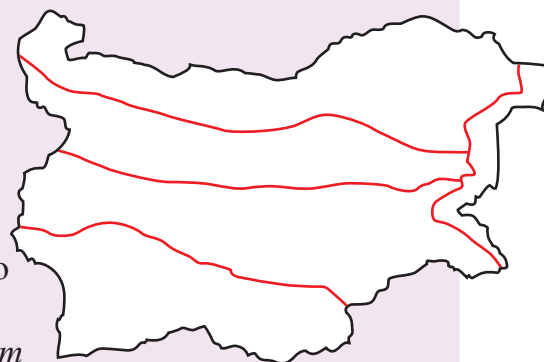
- А) президентът Б) премиерът В) кметът

12 Защо държави от Европа се обединяват в Европейски съюз?

- А) Защото искат да си помагат и заедно да се грижат за доброто бъдеще на хората.
Б) Защото по-големите и силни държави искат да управляват в Европа.
В) Защото много хора от други краища на света искат да живеят в Европа.

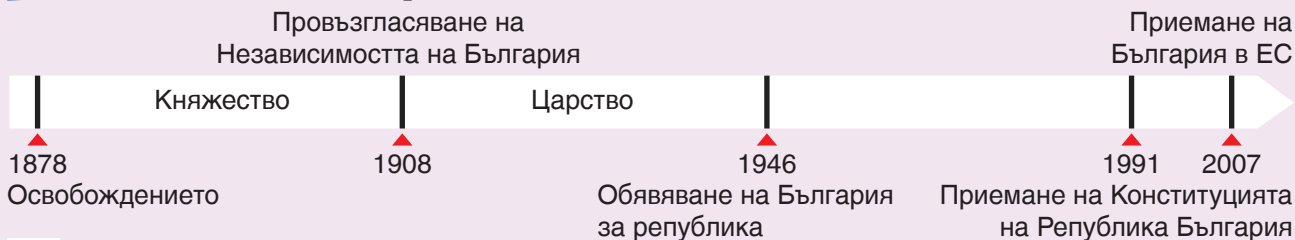
13 Изпълни задачите към картата.

- А) Запиши в кои две природни области в България повърхнината е основно планинска, и ги оцвети с техния цвят от картата.



- Б) Подчертай още 2 общи черти на двете области, които оцвети: *имат обширни гори; имат дълги плажове; развива се зимен отдих; развива се речен транспорт*

14 Разгледай линията на времето и изпълни поставените задачи.



- А) Запиши липсващата форма на държавно управление на съответното място върху линията на времето.
- Б) Нанеси върху линията на времето годините на управление на цар Борис III (1918 – 1943).
- В) Между кои събития от линията на времето ще поставиш приемането на Конституцията на Република България? _____

15 В дадения текст са допуснати 2 грешки. Открий ги и ги подчертай. Срецу всяка буква запиши поправката си:

По време на своето управление Българската комунистическа партия закриляла различните политически партии. Гражданите имали право да изразяват убежденията си и да протестират.

- А) _____ Б) _____

Задача №	Отговори
1	В)
2	А)
3	В)
4	Б)
5	А)
6	А)
7	В)
8	А)
9	Б)
10	В)
11	А)
12	А)
13	А) Старопланинската природна област, Рило – Родопската природна област Б) имат обширни гори; развива се зимен туризъм
14	<p>А)</p> <p>Б)</p> <p>В) Обявяването на България за република и приемане на България в ЕС</p>
15	А) забранила съществуването на Б) нямали