

ЗНАМИ МОГА В КРАЯ НА 3. КЛАС

на _____ клас _____

1 Кои продукти имат по-голяма трайност. Отради.



A) B)



A)



B)

2 Отради верните твърдения.

A) Някои от материалите може да се използват повторно, след преработване.

B) Хартията, пластмасите, металите и стъклото се преработват по еднакъв начин и затова се събират разделно.

B) Преработването на пластмасата, хартията и др., за да се използват повторно, се нарича рециклиране.

3 От кои продукти може да се направи здравословна храна? Отради верните отговори.



A)



B)




B)

13 Къде се използват макари? Отради верните отговори.



A)



B)




B)

14 Кой е мост с най-здрав? Отради.



A)




B)



B)

15 Довърши скицата, като добавиш някои размери. Какво ще ти е нужно, за да изработиш изделието? Запиши.



4 Кои изделия са направени от пластмаса? Огради.



A)

B)

B)

5 Какви грижи се ползват за растенията?
Огради верните отговори.



A)

B)


B)

6 Кое е направено от пластичен материал?
Огради.



A)

B)



A)

B)

7 Кое е направено от еластичен материал?
Огради.

8 Кои кухненски уреди работят с електричество?
Огради верните отговори.



A)

B)


B)

Г)

9 Какво прави сладкарят по време на работа?
Огради верните отговори.

- A) Изработва различни видове сладкарски изделия.
- B) Не се грижи за реда и хигиената.
- B) Опакова, съхранява и продава сладкарски изделия.

10 Кой е производителят? **11** Кой е потребител?
Огради.



A)

B)

A)

B)

- 12** Огради верните твърдения за предприемачите.
- A) Сами организират своята работа, като произвеждат различни стоки или услуги.
 - B) Запознават се с постиженията на другите и предлагат идеи за своята работа.
 - B) Винаги успяват и парите им никога не свършват.
 - Г) Грижат се за производството, услугите, работниците, качеството, продажбите и много други.