

## ТЕСТ ЗА ИЗХОДНО НИВО

### ПЪРВА ГРУПА

1. Телата, които имат постоянна форма, са:

А) твърдите

Б) течните

В) газообразните

2. Свържете тялото с веществото, от което е направено.

нож ●

● захар

прозорец ●

● гума

бонбон ●

● стъкло

топка ●

● метал

3. Какво свойство трябва да има материалът, от който се изработва дъждобран?

А) водонепропусклив

Б) прозрачен

В) еластичен

4. Кое от изброените свойства НЕ се отнася за въздуха?

А) има постоянна маса

Г) не поддържа горенето

Б) няма постоянен обем и форма

Д) прониква навсякъде

В) безцветен газ, необходим за дишането

5. Запишете наименованието на жизнения процес, показан на снимката.



6. За животните е характерно:

А) сами образуват хранителни вещества

Б) активно движение

В) прикрепеният начин на живот

7. В коя група всички живи организми обитават водна среда на живот?

А) рак, мида, глог

Б) водна леща, делфин, орел

В) водорасли, шаран, акула

8. Приспособления на сухоземните растения са:

А) дълги корени и листа с власинки

Б) слаборазвити корени и гъвкави стъбла

В) стъбла, изпълнени с въздух

9. Приспособления на животните във водна среда са:

А) широка плавателна ципа

Г) хлъзгаво вретеновидно тяло

Б) остри нокти

Д) перки и плавници

В) здрави копита

Е) дебела козина

10. Синигерът се храни със семена, червеи и гъсеници.  
Какво животно е според начина си на хранене?

Синигерът е \_\_\_\_\_ животно.

11. Допълнете хранителните вериги.

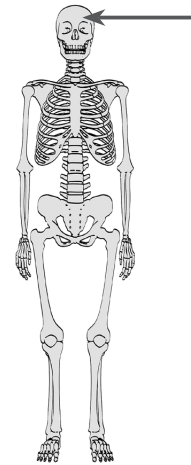


12. Кои от изброените човешки дейности НЕ вредят на природата?

- А) изсичане на горите и пресушаване на блатата
- Б) създаване на резервати и паркове
- В) изхвърляне на непречистени води в реките и моретата

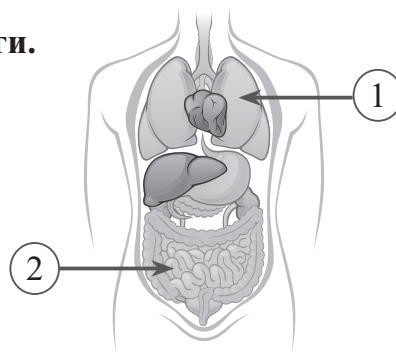
13. За какво служи посочената част от скелета?

- А) предпазва мозъка
- Б) служи за опора на тялото
- В) предпазва сърцето и белите дробове



14. Кои са органите? Запишете ги.

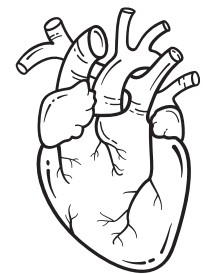
- 1. \_\_\_\_\_
- 2. \_\_\_\_\_



15. Запишете кой е органът и каква работа извършва.

\_\_\_\_\_

\_\_\_\_\_



16. Какво е необходимо, за да се поддържат зъбите здрави?

- А) да се консумират повече млечни продукти
- Б) да се пият студени напитки
- В) да се ядат сладки храни

Отлично изпълнение	Много добро изпълнение	Добро изпълнение	Задоволително изпълнение	Незадоволително изпълнение

## ОТГОВОРИ (I група)

1 – А;

2 – нож – метал; прозорец – стъкло; бонбон – захар; топка – гума;

3 – А;

4 – Г;

5 – растеж;

6 – Б;

7 – В;

8 – А;

9 – А, Г, Д;

10 – всеядно;

11 – хищник, растение, хищник;

12 – Б;

13 – А;

14 – 1 – бели дробове, 2 – черва;

15 – сърце – движи кръвта в тялото;

16 – А.