

КАКВО ЗНАМ ЗА ОБЩЕСТВОТО, ПРИРОДАТА И МИНАЛОТО НА БЪЛГАРИЯ

1. В кое изречение са описани само полезни промени в обществото?

- А) Хората правят научни открития и така се създават лекарства за много болести.
- Б) Хората могат да избират с какво и как да се придвижват, но някои транспортни средства замърсяват природата.
- В) Хората използват интернет и технологиите в работата си, но понякога прекарват много време пред компютъра и по-малко разговарят помежду си.

2. Българските граждани са граждани и на Европейския съюз, защото:

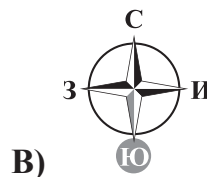
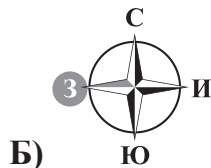
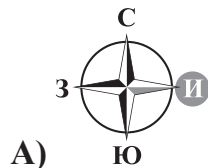
- А) България се намира на континента Европа
- Б) пътуват и работят навсякъде по света
- В) България е член на Европейския съюз

3. Коя дума отговаря на определението?

„Суша, оградена от няколко страни с вода и свързана с континента.“

- А) планина
- Б) язовир
- В) полуостров

4. На кой компас Мила е оцветила правилната посока на движение на река Дунав към Черно море?



5. Защо река Дунав е опасна за хората през късната пролет?

- А) Реката е пълноводна.
- Б) Реката е замръзнала.
- В) Реката е маловодна.

6. На кой ред са отбелязани само водни обитатели в Черно море?

- А) делфин, акула, тюлен
- Б) тюлен, делфин, пингвин
- В) акула, пингвин, кит

7. Кой е най-високият връх в България и на Балканския полуостров?

- А) връх Ботев
- Б) връх Кожух
- В) връх Мусала

8. В коя пещера са открити следи от най-древните жители по нашите земи?

- А) Леденика
- Б) Козарника
- В) Духлата

9. Кой град бил столица на Византийската империя?

А) Константинопол

Б) Рим

В) Преслав

10. Какво говорел Исус Христос на хората?

А) Пред Бог всички хора са равни.

Б) Бог опрощава греховете само на богатите.


В) Човек трябва да наказва враговете си.

11. В кой български град се намира сградата от изображението, наследство от древните римляни?

А) Русе

Б) Бургас

В) Пловдив



12. За кого било ушито първото трицветно знаме през 1877 г.?

А) за българските опълченци

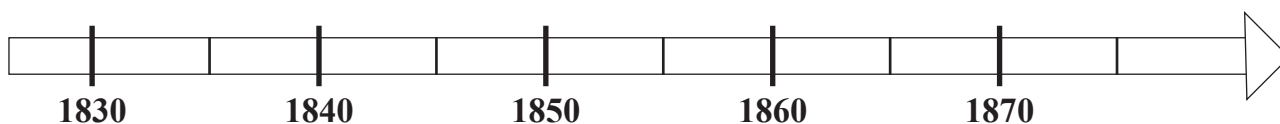
Б) за панагюрските въстаници

В) за Ботевите четници

13. Допълни липсващото в изречението.

Черно море е слабо _____ вътрешно море, чието _____ е
поделено сред _____ държави.

14. Разгледай линията на времето и изпълни задачите към нея.




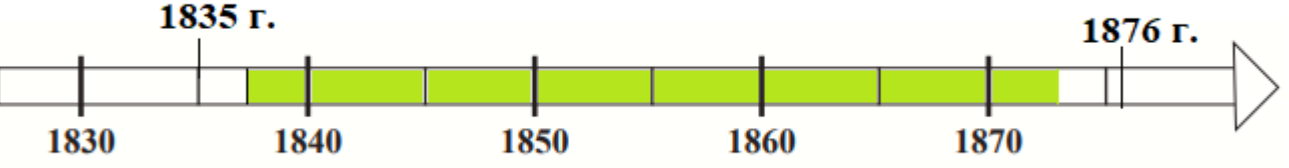
А) Оцвети в зелено времето, в което е живял Васил Левски.

Б) Нанеси върху линията на времето 1835 г., когато е открито първото българско светско училище, и 1876 г., когато избухва Априлското въстание.

В) Запиши века, в който са се случили събитията, отбелязани на линията на времето.

15. Запиши имената на една природна и една културна забележителност в България.

Природна забележителност	
Културна забележителност	

Задача №	Отговори
1	А)
2	В)
3	В)
4	А)
5	А)
6	А)
7	В)
8	Б)
9	А)
10	А)
11	В)
12	Б)
13	Черно море е слабо солено вътрешно море, чието пространство е поделено сред шест държави.
14	<p data-bbox="199 1196 244 1234">А)</p>  <p data-bbox="199 1420 244 1458">Б)</p>  <p data-bbox="199 1747 338 1785">В) 19. век</p>
15	<p data-bbox="199 1823 447 1861">Свободен отговор.</p> <p data-bbox="199 1861 1050 1899">Приема се за вярно всяко твърдение, което отговоря на условието.</p>