

ТЕСТОВИ ЗАДАЧИ ЗА ДИАГНОСТИКА НА ИЗХОДНОТО НИВО

Тестов вариант № 1

Прочети внимателно всеки въпрос и огради цифрата пред верния отговор.

1. Коя дума е излишна?

1. училище
2. класна стая
3. ученик
4. семейство

2. Какво е подходящо да каже детето в тази ситуация?



1. Заповядай!
2. Благодаря!
3. Ако обичаш!
4. Моля те!

3. Огради цифрата пред сезона, който е описан в текста.

Студено е. Вятърът духа силно. Хората носят палта, ръкавици и ботуши.

1. пролет
2. лято
3. есен
4. зима

4. Какво правят хората през есента?

1. Орат земята и засяват семена.
2. Правят зимнина.
3. Подготвят се за ваканцията.
4. Почистват домовете си.

5. През пролетта птиците отлитат на юг.

1. Да
2. Не

6. Щъркелът и лястовицата зимуват в гората.

1. Да
2. Не

7. За да порасне едно растение, е необходима вода.

1. Да
2. Не

8. Огради цифрата на растението, което е храст.




1



2




3



4

9. Как се нарича оградената част на кокичето?

1. корен
2. листа
3. стъбло
4. плод



10. Кое от изброените животни е домашно животно?

1. охлюв
2. катерица
3. петел
4. жаба

11. От кое домашно животно получаваме вълна?

1. коза
2. крава
3. овца
4. кокошка

12. Коя от изброените храни е здравословна?

1. кроасан
2. пържени картофи
3. шоколадови бонбони
4. таратор

13. Зъбите се мият преди всяко хранене.

1. Да
2. Не

14. Как се подготвяме за Коледа?

1. Боядисваме яйца.
2. Украсяваме елха.
3. Украсяваме с венци портретите на светите братя Кирил и Методий.
4. Приготвяме мартеници.

15. Кое е подходящото пожелание за празника Великден?

1. Честито Рождество Христово!
2. Христос възкресе!
3. Честита Коледа!
4. Честита Нова година!

16. Делото на братята Кирил и Методий чества на:

1. 3 март
2. 1 март
3. 1 май
4. 24 май

17. Трети март е най-големият християнски празник.

1. Да
2. Не

18. България има свои химн и знаме.

1. Да
2. Не

19. От колко цвята се състои знамето на Република България?

1. един цвят
2. два цвята
3. три цвята
4. четири цвята

20. Огради цифрата под рисунката, която показва безопасно поведение на детето.



1



2

Тестов вариант № 2

Прочети внимателно всеки въпрос и огради цифрата пред верния отговор.

1. Коя дума е излишна?

1. семейство
2. дом
3. къща
4. училище

2. Какво е подходящо да каже детето в тази ситуация?



1. Заповядай!
2. Благодаря!
3. Извинявай!
4. Ако обичаш!

3. Огради цифрата пред сезона, който е описан в текста.

Слънцето грее силно. Често е горещо и хората търсят прохлада край морето или в планината. Житата са узрели.

1. пролет
2. лято
3. есен
4. зима

4. Какво правят хората през пролетта?

1. Берат и прибират зеленчуците.
2. Правят зимнина.
3. Орат земята и засяват семена.
4. Поставят хранилки за птиците.

5. През пролетта листата на дърветата се обагрят в златисти тонове.

1. Да
2. Не

6. През есента врабчетата отлитат на юг.

1. Да
2. Не

7. За да порасне едно растение, е необходим въздух.

1. Да
2. Не

8. Огради цифрата на растението, което е тревисто.




1



2




3



4

9. Как се нарича оградената част на житния клас?

1. корен
2. листа
3. стъбло
4. плод



10. Кое от изброените животни НЕ е диво животно?

1. лисица
2. мечка
3. крава
4. катерица

11. От кое домашно животно получаваме яйца?

1. петел
2. кокошка
3. овца
4. прасе

12. Коя от изброените храни НЕ е здравословна?

1. банан
2. вафла
3. морков
4. сирене

13. Ръцете се мият преди всяко хранене.

1. Да
2. Не

14. Как се подготвяме за Великден?

1. Купуваме или изработваме сурвачки.
2. Приготвяме козунак.
3. Украсяваме портретите на светите братя Кирил и Методий.
4. Приготвяме мартеници.

15. Кой е подходящият поздрав за Коледа?

1. Честита Нова година!
2. Честито Рождество Христово!
3. Честито Възкресение!
4. Честит рожден ден!

16. Светите братя Кирил и Методий са създатели на славянската писменост.

1. Да
2. Не

17. Националният празник на България чества на:

1. 24 май
2. 1 май
3. 1 март
4. 3 март

18. България е моят роден град.

1. Да
2. Не

19. Кои са цветовете на българското знаме?

1. зелено, бяло, червено
2. бяло, зелено, червено
3. червено, зелено, бяло
4. бяло, зелено, синьо

20. Огради цифрата под илюстрацията, която показва опасно поведение на детето.



1

2

Задача №	Отговори на тестовите задачи	
	Тестов вариант № 1	Тестов вариант № 2
1	4	4
2	1	2
3	4	2
4	2	3
5	2	2
6	2	2
7	1	1
8	2	1
9	1	3
10	3	3
11	3	2
12	4	2
13	2	1
14	2	2
15	2	2
16	4	1
17	2	4
18	1	2
19	3	2
20	2	2