

# САМОПРОВЕРКА № 8

## ИЗХОДНО НИВО



1. Попълни.

13			16			19
----	--	--	----	--	--	----

1 Точка
------------



2. Попълни.

Събираемо	4	6		50
Събираемо	8		9	30
Сбор		13	20	

Умаляемо	12	20		70
Умалител	5		7	40
Разлика		4	8	

4 Точки
------------



3. Отбележи вярно или грешно.

$12 + 7 = 19$

$19 - 5 = 4$

$9 + 4 = 12$

$14 = 20 - 6$

$20 - 12 = 18$

$15 = 20 - 4$

3 Точки
------------



4. Допълни.

11
6
2
3

17
10
2

18
5
11

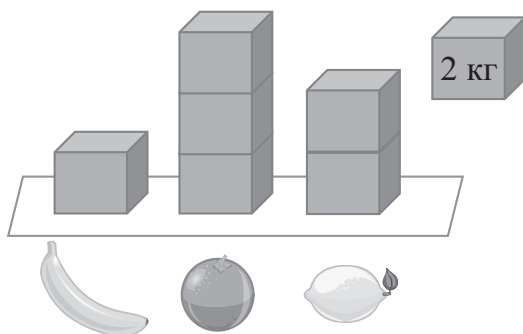
19
0
4

70
20
30

2 Точки
------------



5. Разгледай илюстрацията.



3 Точки
------------

Огради верния отговор.

- са 1 кг.      Да      Не
- са 4 кг.      Да      Не
- са 4 кг.      Да      Не



6. Сашо набрал 8 кг череша, а Вики – с 2 кг по-малко.  
Колко килограма череша е набрала Вики?

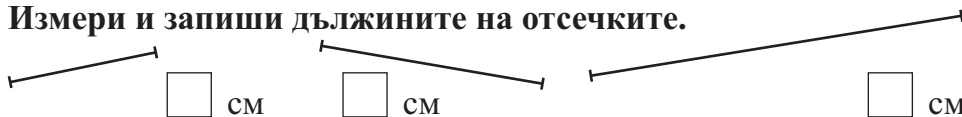
Решение:

Отговор:  кг череша


2 Точки



7. Измери и запиши дължините на отсечките.




- Начертай в мрежата квадрат със страна, равна на най-късата отсечка.



4 Точки



8. Часовникът показва часа, в който започва тренировката на Фани. След два часа тя е отново въщи. Нарисувай на другия часовник кога се е прибрала Фани.



Общ брой точки \_\_\_\_\_

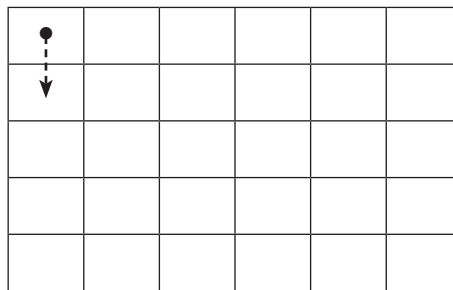
1 Точка

Допълнителна задача

3 бонус точки

Използвай информацията, записана на листчето, открий къде се намират лакомствата на Ежко, и ги нарисуй.

	1 ↓ 5 →	
	1 → 4 ↓	
	2 ↓ 3 →	



2. група

1. ☾ - 14; ☀ - 15; ☁ - 17; ⚡ - 18

Събираемо	4	6	11	50	Умаляемо	12	20	15	70
Събираемо	8	7	9	30	Умалител	5	16	7	40
Сбор	12	13	20	80	Разлика	7	4	8	30

3.  $12 + 7 = 19$  ✓       $19 - 5 = 4$  ✗       $9 + 4 = 12$  ✗  
 $14 = 20 - 6$  ✓       $20 - 12 = 18$  ✗       $15 = 20 - 4$  ✗

4.

11	17	18	19	70
6	10	5	15	20
2	2	2	0	30
3	5	11	4	20

5. Бананите са 1 кг. Не      Портокалите са 4 кг. Не      Лимоните са 4 кг. Да  
 6. Решение:  $8 - 2 = 6$ ;      Отговор: 6 кг  
 7. Отсечките са 2 см, 3 см и 5 см. Чертае се квадрат със страна 2 см.  
 8. Първият часовник показва 4 ч., а вторият – 6 ч.

Допълнителна задача:

