

# САМОПРОВЕРКА № 8

## ИЗХОДНО НИВО



1. Попълни.

12				16		18
----	--	--	--	----	--	----

1 Точка



2. Попълни.

Събираемо	4	5		30
Събираемо	9		7	60
Сбор		11	20	

Умаляемо	13	20		80
Умалител	7		8	50
Разлика		9	5	

4 Точки



3. Отбележи вярно или грешно.

$14 + 5 = 19$

$18 - 6 = 13$

$7 + 5 = 12$

$17 = 6 + 12$

$12 = 20 - 7$

$20 - 17 = 12$

3 Точки



4. Допълни.

15
10
2
3

16
11
5

17
3
12

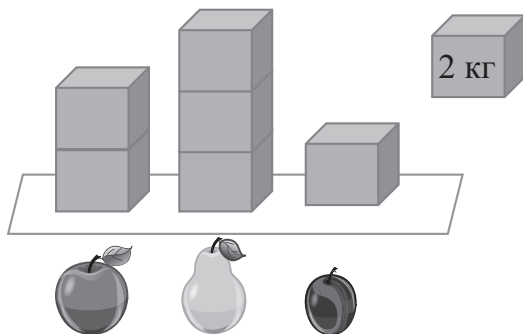
18
8
0

90
50
20

2 Точки



5. Разгледай илюстрацията.



3 Точки

Огради верния отговор.

- са 2 кг.    Да    Не
- са 6 кг.    Да    Не
- са 1 кг.    Да    Не



6. В кошница има 5 кг ябълки, а в касетка – с 6 кг повече. Колко килограма ябълки има в касетката?

Решение:

Отговор:  кг ябълки


2 Точки



7. Измери и запиши дължините на отсечките.




- Начертай в мрежата квадрат със страна, равна на най-дългата отсечка.



4 Точки



8. Часовникът показва часа, в който Ясен тръгва за училище. След шест часа той е отново вкъщи. Нарисувай на другия часовник кога се е прибрал Ясен.



Общ брой точки \_\_\_\_\_

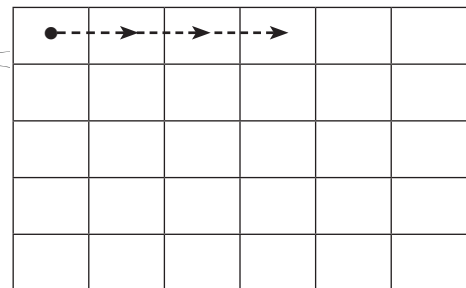
1 Точка

Допълнителна задача





3 бонус точки

Използвай информацията, записана на листчето, открий къде се намират лакомствата на Писана, и ги нарисуй.

	3 → 2 ↓	
	5 → 3 ↓	
	4 → 4 ↓	



1. група

1.  - 13;  - 14;  - 15;  - 17

2.

Събираемо	4	5	13	30
Събираемо	9	6	7	60
Сбор	13	11	20	90

Умаляемо	13	20	13	80
Умалител	7	11	8	50
Разлика	6	9	5	30

3.  $14 + 5 = 19$  ✓       $18 - 6 = 13$  ✗       $7 + 5 = 12$  ✓  
 $17 = 6 + 12$  ✗       $12 = 20 - 7$  ✗       $20 - 17 = 12$  ✗

4.

15	16	17	18	90
10	11	3	10	50
2	5	2	8	20
3	0	12	0	20

5. Ябълките са 2 кг. Не      Крушите са 6 кг. Да      Сливите са 1 кг. Не

6. Решение:  $5 + 6 = 11$ ;      Отговор: 11 кг

7. Отсечките са 3 см, 2 см и 4 см. Чертае се квадрат със страна 4 см.

8. Първият часовник показва 7 ч., а вторият – 13 ч.

Допълнителна задача:

