

ЕЛИНИЗЪМ, ДРЕВНА ТРАКИЯ, ДРЕВЕН РИМ**1. Напиши понятията към обясненията. (4 т.)**

А) Висш държавен орган в Древен Рим, попълван от бивши магистрати –

Б) Война, в която воюващите страни са от една и съща държава –

В) Периодът от края на завоеванията на Александър Велики до завладяването на Изтока от Рим –

Г) Форма на държавно управление, при която управляват избрани от гражданите представители за определен срок –

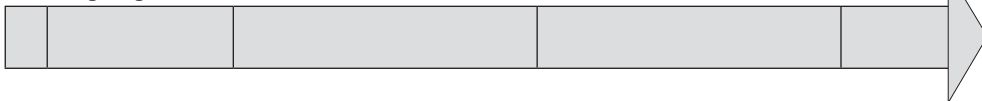
2. Попълни линията на времето. (4 т.)

А) Впиши в хронологичен ред периодите от историята на Древен Рим: *империя, царство, република*.

Б) Постави на верните места годините: 509 г. пр. Хр.; 27 г. пр. Хр.

753 г. пр. Хр.

476 г.

**3. Попълни липсващите думи в изреченията. (4 т.)**

А) Първите писмени сведения за траките са от времето на _____ война.

Б) Траките били разделени на множество _____, които говорели един език и имали сходни обичаи.

В) През VII – VI в. пр. Хр. елините основали _____ по тракийските крайбрежия.

Г) В края на VI или началото на V в. пр. Хр. било основано тракийското _____ царство.

4. Запиши имената на личностите. (4 т.)




А) Легендарен основател и пръв цар на Рим – _____

Б) Владетел на одрисите от края на IV в. пр. Хр., който основал град, носещ неговото име – _____

В) Римски военачалник и политик от I в. пр. Хр., обявен за пожизнен диктатор – _____

Г) Тракийски гладиатор, водач на най-голямото въстание на робите в Древен Рим – _____

5. Постапи правилно текстовете към изображенията: Свецарска гробница, Светилище при с. Татул, Казанлъшка гробница. (3 т.)



6. Дай конкретни примери от древната история за: (4 т.)

- А) световноизвестно тракийско съкровище – _____
Б) елинска колония на Черноморското крайбрежие – _____
В) римска провинция в днешните български земи – _____
Г) война между римляни и картагенци – _____

7. За коя историческа личност се отнася текстът? (1 т.) _____

През 27 г. пр. Хр., след кървави граждански войни, той бил обявен за император и заемал едновременно важните длъжности в Рим в нарушение на републиканските закони.

8. Запиши римските богове, съответстващи на гръцките. (4 т.)

- А) Зевс – _____ В) Атина – _____
Б) Арес – _____ Г) Хера – _____

9. Разгледай изображението и отговори. (4 т.)



- 1) Как се нарича паметникът?

2) В кой град се намира?

3) Кога е построен?

4) За какво е използван?

10. За коя група от римското общество е текстът? (1 т.) _____

Те били лишени от лична свобода и били собственост на други хора. Били смятани за вещи, били продавани и купувани на специални пазари и нямали никакви права.

11. Прочети откъса от исторически извор и отговори. (4 т.)

„Когато аз, Константин Август, и аз, Лициний Август, се събрахме в Милано... решихме да дарим на християните и на всички останали възможността всеки да следва свободно онази религия, която пожелае... и на никого да не отказваме тази възможност.“

- 1) Как се нарича този документ?

- 2) През коя година е създаден?

- 3) За коя религия се отнася?

- 4) Какви права дава на онези, които я изповядват? (Подчертай изрза.)

12. За обществото на коя цивилизация се отнасят думите:

сенатори, конници, плебс?

- | | |
|----------------|--------------------|
| А) тракийската | В) елинистическата |
| Б) елинската | Г) римската |

13. Постапи правилно надписите на изображенията:

акведукт, триумфална арка, амфитеатър.



14. За коя държавна длъжност в Древен Рим е текстът? (1 т.)

Тези магистрати имали право да спират всяко решение на сената, като произнесат думата „вето“ (забранявам). _____