

7. С понятието *хардуер* се означават:  
 А) физическите части на компютъра  
 Б) дигиталните устройства  
 В) програмите, с които работи компютърът  
 Г) компютърните системи
8. С коя основна информационна дейност се свързват носителите на информация?  
 А) събиране  
 Б) обработване  
 В) съхранение  
 Г) разпространение

9. Показаният елемент на диалогов прозорец

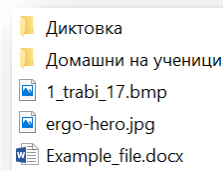
Текст по избор: е:

- А) поле за отметка  
 Б) текстово поле  
 В) списъчно поле  
 Г) поле за алтернативен избор

10. Кое от изброените е оптичен носител на информация?  
 А) карта памет  
 Б) компактдиск  
 В) твърд диск  
 Г) флашпамет

11. Броят на директориите, показани на изображението, е:

- А) 5  
 Б) 2  
 В) 3  
 Г) 4



12. Кой от изброените адреси е на уебсайт?

- А) kirilov.nikola@gmail.com  
 Б) aropov@yahoo.com  
 В) itschool.edu  
 Г) ou@fpmg.bg

13. Кое от изброените е браузър?

- А) Bing  
 Б) Paint  
 В) Groove  
 Г) Chrome

14. За да слушате музика на компютъра, са нужни:

- А) видеокарта и тонколони  
 Б) тонколони и звукова карта  
 В) слушалки и микрофон  
 Г) звукова карта и видеокарта

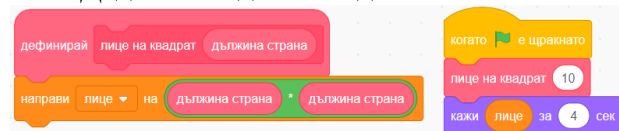
15. С кой символ се обозначава, че възпроизвеждането на звукова или видео информация е поставено на пауза?

- А) Б) В) Г)

1. Най-малката градивна единица на растерно изображение се нарича:  
 А) вектор Б) цвят В) пиксел Г) растер

2. Именувана последователност от инструкции, реализираща даден алгоритъм, която може да се използва многократно в компютърна програма, се нарича:  
 А) променлива  
 Б) подпрограма  
 В) етикет  
 Г) поле

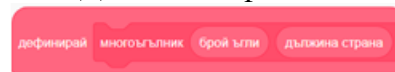
3. Даден е следният код.



Каква ще е стойността на променливата *лице* след извикване на блока *лице на квадрат* в кода?

- А) 10 Б) 20 В) 40 Г) 100

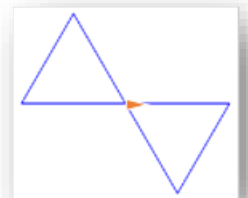
4. Дадена е дефиницията на собствен блок.



Колко параметъра има блокът?


- А) нито един  
 Б) един  
 В) два  
 Г) три

5. Кой от посочените кодове изчертава показаната фигура, като се знае, че началната позиция на героя е показана от стрелката?



- А) Б) В) Г)

6. Каква фигура ще изчертае посоченият код?



- А) триъгълник  
 Б) квадрат  
 В) правоъгълник  
 Г) петъгълник

## ОТГОВОРИ

Въпрос	1	2	3	4	5	6	7	8	9	10	11	12	13	14	15
Отговор	А	В	Г	Б	Б	В	Г	Б	А	В	Б	Г	В	А	Г