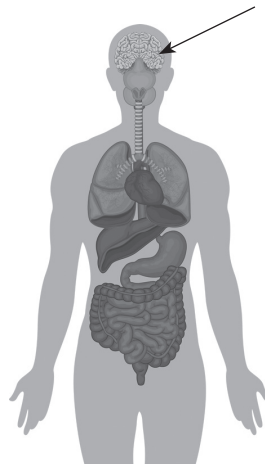


# ТЕСТ върху раздел „Човекът и неговото здраве“

1. Кой е посоченият орган на схемата?  
Огради буквата пред верния отговор.

- А) сърце
- Б) стомах
- В) мозък



2. Кой орган за какво служи? Свържи.

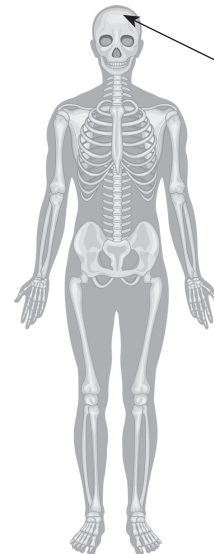
- |              |   |                                  |
|--------------|---|----------------------------------|
| сърце        | • | Участва в дишането.              |
| бели дробове | • | Продължава смилането на храната. |
| черва        | • | Движи кръвта в тялото.           |

3. Коя част от скелета е показана на картината? Запиши.

\_\_\_\_\_

4. Допълни изречението.

Гръдният кош предпазва от нараняване белите дробове и \_\_\_\_\_.

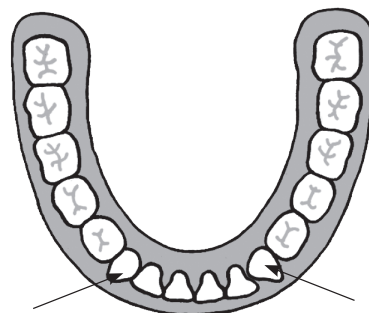


5. Как се наричат посочените на схемата зъби?

\_\_\_\_\_

6. За какво служат кътниците? Запиши.

\_\_\_\_\_  
\_\_\_\_\_  
\_\_\_\_\_



**7. Подчертай храните, които укрепват костите и зъбите.**

*прясно мляко, хляб, сирене, кашкавал, боб, извара, ориз, кисело мляко*

**8. Формулирай правило по картинката.**

---

---



**9. Отбележи с ✓ картинките, които са свързани със здравословния начин на живот.**



**10. Твой приятел е паднал и си е ожулил коляното.**

**Подчертай предметите, които са ти необходими, за да му окажеш първа помощ.**

*ножица    бинт    шина    лепенка    памук и риванол*