

САМОПРОВЕРКА

СЪБИРАНЕ И ИЗВАЖДАНЕ НА ЧИСЛАТА ДО 20 С ПРЕМИНАВАНЕ. ЧАС. ТЕКСТОВИ ЗАДАЧИ



1. Пресметни.

$13 + 7 = \square \square$

$20 - 15 = \square$

$7 + \square = 15$

$13 - 5 = \square$

$20 - 6 = \square \square$

$9 + 7 = \square \square$

$\square + 4 = 11$

$14 - \square = 8$

4 ТОЧКИ



2. Запиши отговора.

• Умаляемото е 15, а умалителят е 6. Разликата е .

• Умаляемото е 13, а разликата е 9. Умалителят е .

2 ТОЧКИ



3. Пресметни и огради буквата пред задачата, с която е направена проверка.

$11 - 5 = \square$

А) $11 + 5 = 16$

Б) $11 - 6 = 5$

В) $6 + 5 = 11$

2 ТОЧКИ



4.

$6 + 7 \square 7 + 6$

$4 + 9 \square 6 + 5$

$8 + 6 \square 20 - 5$

$12 - 8 \square 12 - 9$

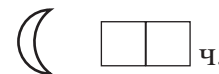
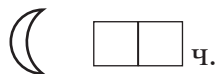

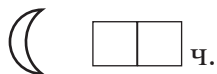
$13 - 7 \square 11 - 5$

$6 + 8 \square 20 - 17$

3 ТОЧКИ



5. Запиши колко е часът.



3 ТОЧКИ



6. На екскурзия отишли 12 момчета и с 3 по-малко момичета. Колко момичета са отишли на екскурзия?

2 Точки

Решение:

--	--	--	--	--	--

Отговор:

--

 момичета



7. Вальо прочел 6 приказки и с 5 повече стихотворения. Какъв въпрос ще поставиш, така че решението на задачата да бъде $6 + 5 = 11$?

2 Точки

Въпрос: _____



8. Начертай отсечка, която е с 3 см по-дълга от отсечка с дължина 8 см. Запиши дължината ѝ.

2 Точки

• - - - - -

--	--

 см

😊 😐 😞 Общ брой точки _____

Допълнителна задача

2 бонус точки

Реши верижката, като знаеш, че:

+5
----->

+8
_____>

-6
~~~~~>

-9  
~~~~~>

(6) -----> ()

() <----- ()

() _____> ()

() <----- ()

() <----- ()

() <----- ()

() <----- ()

ОТГОВОРИ

- $13 + 7 = 20$; $20 - 15 = 5$; $7 + 8 = 15$; $13 - 5 = 8$;
 $20 - 6 = 14$; $9 + 7 = 16$; $7 + 4 = 11$ $14 - 6 = 8$
- Умаляемото е 15, а умалителят е 6. Разликата е 9.
Умаляемото е 13, а разликата е 9. Умалителят е 4.
- В
- $6 + 7 = 7 + 6$; $4 + 9 > 6 + 5$; $8 + 6 < 20 - 5$;
 $12 - 8 > 12 - 9$; $13 - 7 = 11 - 5$; $6 + 8 > 20 - 17$
- 5 ч., 17 ч.; 7 ч., 19 ч.; 8 ч., 20 ч.
- Решение: $12 - 3 = 9$; Отговор: 9 момичета
- Въпрос: Колко стихотворения е прочел Вальо?
- $8 + 3 = 11$; Отсечката е дълга 11 см.

Допълнителна задача:

