

ТЕСТ | Входно ниво – 1

1. Кое е общото в географското положение и границите на трите континента – Азия, Северна и Южна Америка?

1т.

- А) пресичат се от Екватора
- Б) разположени са изцяло в Западното полукълбо
- В) свързани са помежду си чрез провлаци
- Г) граничат с Тихия океан

2. Коя група обекти са разположени в Северния ледовит (Арктичния) океан?

1т.

- А) Северноамерикански архипелаг, Източносибирско море, о. Гренландия
- Б) Антилски острови, Карибско море, о. Куба
- В) Малайски архипелаг, Арабско море, о. Шри Ланка
- Г) Филипински острови, Жълто море, Японски острови

3. Кое е общото за планините Кордилери, Анди, Хималаи и Голяма вододелна планина?

1т.

- А) посоката им на простиране
- Б) надморската им височина
- В) най-високите в континентите си
- Г) географското им положение

4. Защо в Австралия няма вулкани, а земетресенията са рядко явление?

1т.

- А) защото континентът е с малка територия
- Б) защото континентът е далече от границите на литосферните плочи
- В) защото континентът произхожда от древния континент Гондвана
- Г) защото най-високата планина е висока едва 2228 m

5. Кое от езерата е разположено в депресия?

1т.

- А) Мъртво море
- Б) Онтарио
- В) Байкал
- Г) Титикака

6. В коя двойка „находище – вид полезно изкопаемо“ е допусната грешка?

1т.

- А) Анди – медни руди
- Б) Апалачи – черни въглища
- В) пустиня Виктория – селитра
- Г) Персийски залив – нефт

7. Коя е причината по южното подножие на Хималаите да падат най-много валежи?

1т.

- А) топлото океанско крайбрежие
- Б) планината прегражда пътя на летните мусони
- В) влиянието на екваториалните въздушни маси
- Г) променящата се надморска височина

8. Кой климатичен пояс е представен в Азия, а липсва в Австралия и Северна Америка?

1т.

- А) екваториален
- Б) субекваториален
- В) тропичен
- Г) умерен

- 9. Кое е общото за реките Амазонка, Мисисипи и Яндзъ?** 1т.
А) Пълноводни са само през лятото. Б) Маловодни са през зимата.
В) Плавателни са. Г) Текат от запад на изток.
- 10. Каква е основната растителност в степите, прериите и пампата?** 1т.
А) ниски треви Б) високи треви
В) иглолистни гори Г) мъхове и лишей
- 11. В коя двойка „континент – уникален животински вид“ е допусната грешка?** 1т.
А) Южна Америка – ленивец Б) Северна Америка – коала
В) Азия – панда Г) Австралия – кенгуру
- 12. Кой континент има най-малка гъстота на населението?** 1т.
А) Азия Б) Северна Америка
В) Австралия Г) Южна Америка
- 13. Кое местно население НЕ е от монголоидната раса?** 1т.
А) индианци Б) ескимоси В) аборигени Г) китайци
- 14. Християнството НЕ е най-разпространената религия в:** 1т.
А) Австралия Б) Азия В) Южна Америка Г) Северна Америка
- 15. Коя група държави са монархии?** 1т.
А) САЩ, Бразилия, Китай Б) Индия, Мексико, Аржентина
В) Австралийски съюз, Канада, Япония Г) Куба, Турция, Чили
- 16. В коя двойка „страна – стоки за износ“ е допусната грешка?** 1т.
А) Япония – автомобили Б) САЩ – самолети
В) Бразилия – кафе Г) Австралийски съюз – чай
- 17. Коя туристическа забележителност НЕ е в Азия?** 1т.
А) Фуджияма Б) Тадж Махал В) Гранд каньон Г) Ефес
- 18. Какво са Отава, Буенос Айрес, Анкара и Канбера?** 1т.
А) държави Б) острови В) езера Г) столици
- 19. Коя е причината Антарктида да е най-студеният континент?** 2т.

- 20. От коя раса са родителите на метиса?** 2т.

- 21. Кои обекти са открити от Фернандо Магелан?** 2т.

Използвайте картата, за да решите задачи 22 и 23.

22. Напишете върху картата имената на най-големите по площ държави в Азия, Северна Америка и Южна Америка.



3 т.

23. Поставете знаци „X“ върху територии, в които има чести земетресения и вулканична дейност.

3 т.

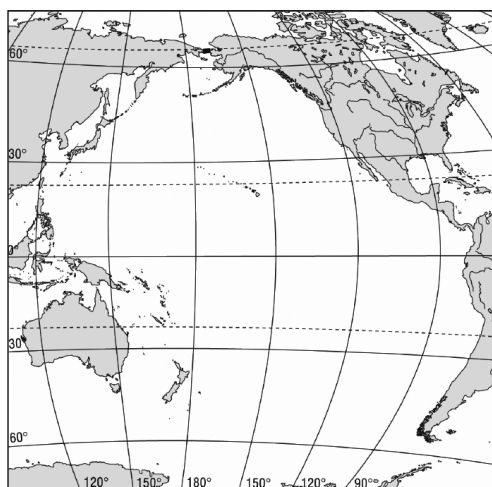
24. Поставете знак „X“ върху климатичния пояс, за който се отнася текстът.

Температурите са ниски през цялата година, ветровете – силни и студени, валежите оскъдни, предимно от сняг.



3 т.

25. Поставете три знака „X“ върху местата в Тихия океан, където солеността на водата е най-голяма.



3 т.

САМООЦЕНЕТЕ СЕ

Слаб 2	Среден 3	Добър 4	Много добър 5	Отличен 6
0 – 11	12 – 18	19 – 24	25 – 30	31 – 36

Отговори

ТЕСТ | ВХОДНО НИВО – 1

1 – Г; 2 – А; 3 – В; 4 – Б; 5 – А; 6 – В; 7 – Б; 8 – А; 9 – В; 10 – А; 11 – Б; 12 – В; 13 – В; 14 – Б; 15 – В; 16 – Г; 17 – В; 18 – Г; 19 – Географското положение (географската ширина) около Южния полюс.; 20 – Единият родител е от монголоидната, а другият – от европейдната раса.; 21 Остров Огнена земя и Магеланов проток.; 22 – (виж картата); 23 – (виж картата); 24 – (виж картата); 25 – (виж картата).

22



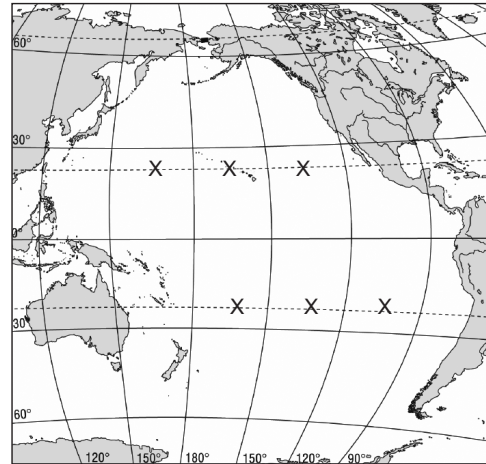
23



24



25



ТЕСТ | Входно ниво – 2

1. Кое е общото в географското положение и границите на трите континента – Азия, Южна Америка и Австралия?

1т.

- А) Пресичат се от Южната тропична окръжност.
- Б) Разположени са изцяло в Източното полукълбо.
- В) Граничат с Тихия океан.
- Г) Близо са до Антарктида.

2. Коя група обекти са разположени в Тихия океан?

1т.

- А) Северноамерикански архипелаг, Източносибирско море, о. Гренландия
- Б) Антилски острови, Карибско море, о. Куба
- В) Малайски архипелаг, Арабско море, о. Шри Ланка
- Г) Мариански острови, полуостров Калифорния, Японски острови

3. Кое е общото за Амазонската низина, Западносибирската низина и Мисисипската низина?

1т.

- А) площта им
- Б) начинът им на образуване
- В) климатът им
- Г) географското им положение

4. Голямата територия, слабата разчлененост на бреговата линия и високите оградни планини са причина за образуването в Азия на:

1т.

- А) сух тропичен климат
- Б) вътрешноконтинентални пустини
- В) безотточни области
- Г) неплодородни почви

5. Кое от езерата е разположено в депресия?

1т.

- А) Еър
- Б) Титикака
- В) Байкал
- Г) Горно езеро

6. В коя двойка „находище – вид полезно изкопаемо“ е допусната грешка?

1т.

- А) пустиня Виктория – селитра
- Б) Апалачи – черни въглища
- В) полуостров Арабия – нефт
- Г) Анди – медни руди

7. Коя е причината за образуването на пустинята Атакама?

1т.

- А) студеното Перуанско течение
- Б) планинската преграда на Андите
- В) влиянието на западните ветрове
- Г) малката надморска височина

8. Кой климатичен пояс е представен в Азия, а липсва в Австралия и Южна Америка?

1т.

- А) субекваториален
- Б) полярен
- В) тропичен
- Г) умерен

Използвайте картата, за да решите задачи 22 и 23.

22. Напишете върху картата имената на най-големите по брой на населението държави в Азия, Северна Америка и Южна Америка.



3 т.

23. Поставете знаци „X“ върху континентите, които произхождат изцяло или частично от древния континент Гондвана.

3 т.

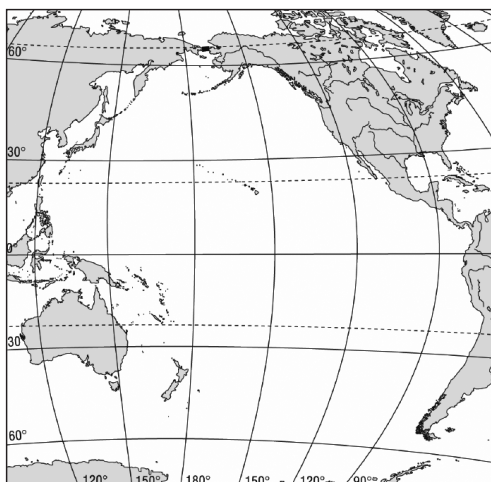
24. Поставете знак „X“ върху климатичния пояс, за който се отнася текстът.

По крайбрежията климатът е океански, с влажно прохладно лято и мека зима, а във вътрешността – континентален, с горещо лято и студена зима.



3 т.

25. Поставете три знака „X“ върху местата в Тихия океан, където температурата на водата е най-ниска.



3 т.

САМООЦЕНЕТЕ СЕ

Слаб 2	Среден 3	Добър 4	Много добър 5	Отличен 6
0 – 11	12 – 18	19 – 24	25 – 30	31 – 36

Отговори

ТЕСТ | ВХОДНО НИВО – 2

1 – В; 2 – Г; 3 – Б; 4 – Б; 5 – А; 6 – А; 7 – А; 8 – Б; 9 – А; 10 – Г; 11 – Б; 12 – А; 13 – А; 14 – Б; 15 – Б; 16 – Б; 17 – Г; 18 – А; 19 – Летният мусон; 20 – Единият родител е от негроидната, а другият – от европейдната раса.; 21 Остров Ливингстън; 22 – (виж картата); 23 – (виж картата); 24 – (виж картата); 25 – (виж картата).

22



23



24



25

