

Начален преговор – 1

- 1. Вашку да Гама е пътешественик, който открива:** 1т.
 А) морски път до Индия Б) проток близо до Южна Америка
 В) Америка Г) водопада Виктория
- 2. В коя посока се движите, ако срещу вас е залязващото слънце?** 1т.
 А) изток Б) север В) запад Г) юг
- 3. Разстоянието между т. А и т. Б на географската карта е 5 см, а мащабът на картата е 1:5 000 000. Колко е действителното разстояние между т. А и т. Б?** 1т.
 А) 75 000 km Б) 250 km В) 25 km Г) 7500 km
- 4. Коя външна обвивка на Земята обхваща Световния океан и водите на сушата?** 1т.
 А) литосферата Б) атмосферата
 В) хидросферата Г) педосферата
- 5. Коя от изброените форми на релефа е резултат от дейността на външните земни сили?** 1т.
 А) пещера Б) планинска верига
 В) континент Г) обширна равнина
- 6. Коя форма на релефа е вдлъбната?** 1т.
 А) долина Б) равнина В) плато Г) низина
- 7. От кое полезно изкопаемо НЕ се произвеждат горива?** 1т.
 А) нефт Б) природен газ В) черни въглища Г) медна руда
- 8. Най-малко валежи падат:** 1т.
 А) на Екватора Б) в пустините В) до океаните Г) в планините
- 9. В кой климатичен пояс през цялата година влияят студени и сравнително сухи въздушни маси?** 1т.
 А) екваториален Б) тропичен В) умерен Г) полярен
- 10. Коя двойка „растение – животно“ е типична за зоната на екваториалните гори?** 1т.
 А) палми – орангутан Б) сухи храсти – едногърба камила
 В) лишей – северен елен Г) ела – лос
- 11. От европейдната раса НЕ са:** 1т.
 А) арабите Б) ескимосите В) турците Г) индийците
- 12. Коя религия е широко разпространена в Европа, Австралия, Северна и Южна Америка?** 1т.
 А) ислямът Б) юдаизмът
 В) будизмът Г) християнството

13. Кое твърдение за географското положение и границите на Африка е вярно?

1т.

- А) Отделя се от Северна Америка чрез Средиземно море и Гибралтарския проток.
- Б) Граничи с три океана – Тихи, Атлантически и Индийски.
- В) Пресича се от Екватора, Гринуичкия меридиан и двете тропични окръжности.
- Г) На североизток Червено море отделя континента от Европа.

14. В коя планина се намира връх Ухуру (5895 m)?

1т.

- А) Атласките планини
- Б) Етиопската планинска земя
- В) Килиманджаро
- Г) Драконовите планини

15. Студеното Бенгелско течение край бреговете на Африка е причина за образуването на:

1т.

- А) пустинята Сахара
- Б) многоетажни влажни гори
- В) пустинята Намиб
- Г) планински климат

16. Към коя раса принадлежат най-ниските хора в света – пигмеите?

1т.

- А) европейдната
- Б) негроидната
- В) монголоидната
- Г) смесената

17. Къде в Африка се добиват големи количества въглища, злато и диаманти?

1т.

- А) Източна Африка
- Б) Западна Африка
- В) Южна Африка
- Г) Северна Африка

18. Кое твърдение за Антарктида е ГРЕШНО?

1т.

- А) най-малкият континент
- Б) покрит с дебела ледена покривка
- В) най-късно откритият континент
- Г) най-студеният континент

19. Кое е общото за градовете Претория и Кайро?

2т.

20. Коя добиваща стопанска дейност е най-разпространена в Африка?

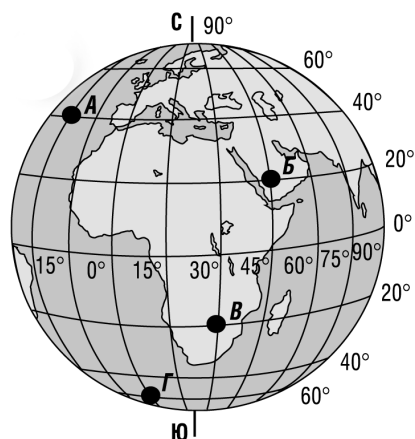
2т.

21. От кой древен континент произхожда Африка?

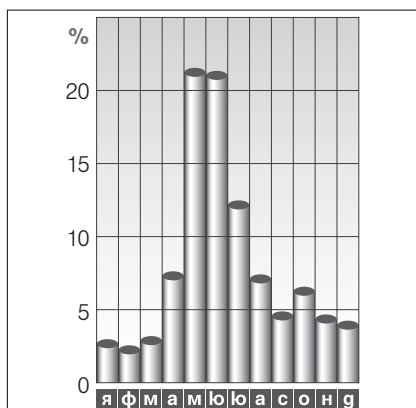
2т.

22. Определете и запишете географските координати на т. Б.

3т.



23. През кои месеци настъпва пълноводието на р. Марица? А през кои месеци настъпва маловодието?



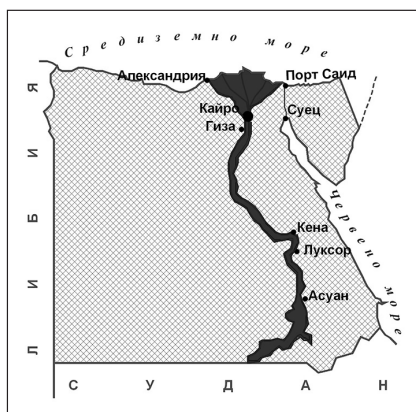
3 т.

24. Обозначете върху картата река Конго с цифра 1.



3 т.

25. Поставете подходящо заглавие на картата.



3 т.

САМООЦЕНЕТЕ СЕ

Слаб 2	Среден 3	Добър 4	Много добър 5	Отличен 6
0 – 11	12 – 18	19 – 24	25 – 30	31 – 36

13. С кой воден басейн Африка НЕ граничи?

- А) със Средиземно море
Б) с Каспийско море
В) с Червено море
Г) с Индийския океан

1т.

14. Кой природен обект е разположен около Северната тропична окръжност?

- А) Килиманджаро
Б) Заирската котловина
В) Атласките планини
Г) пустинята Сахара

1т.

15. За кой климатичен пояс на Африка се отнася описанието?

Обхваща най-северните и най-южните части на континента. Лятото е сухо и горещо, а зимата е мека и влажна.

- А) екваториален Б) субтропичен В) субекваториален Г) тропичен

1т.

16. Към коя раса принадлежат бушмените и хотентотите?

- А) смесена Б) европейдна В) негроидна Г) монголоидна

1т.

17. Коя земеделска култура НЕ е типична за Африка?

- А) какао Б) лимони
В) кафе Г) захарно цвекло

1т.

18. В Африка няма:

- А) умерен климат Б) вулкани
В) савани Г) пустини

1т.

19. Кое е общото за Намиб и Калахари?

2т.

20. Коя обслужваща стопанска дейност е развита в Египет?

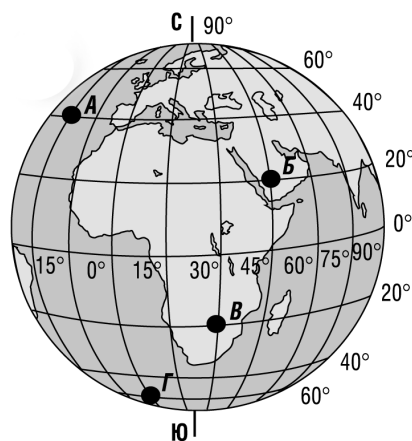
2т.

21. Коя от най-голямата световна организация?

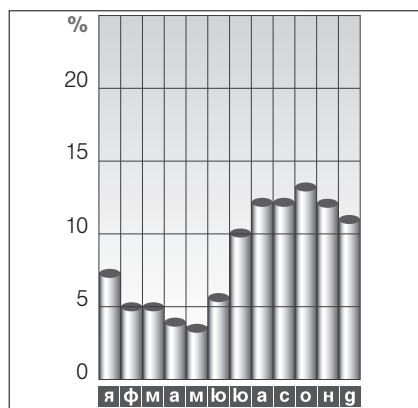
2т.

22. Определете и запишете географските координати на т. В.

3т.

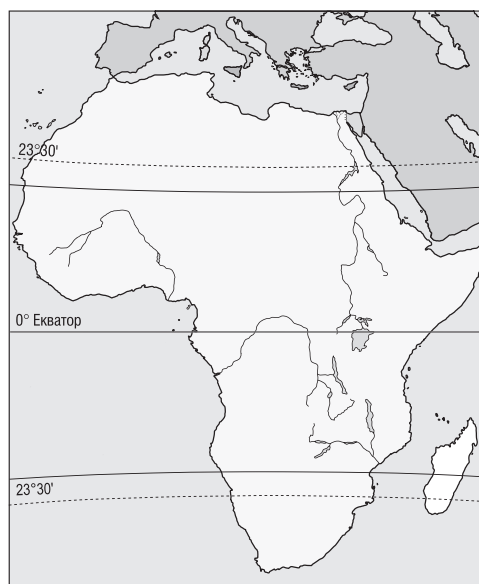


23. През кои месеци е най-пълноводна река Бели Нил? А през кои месеци е най-маловодна?



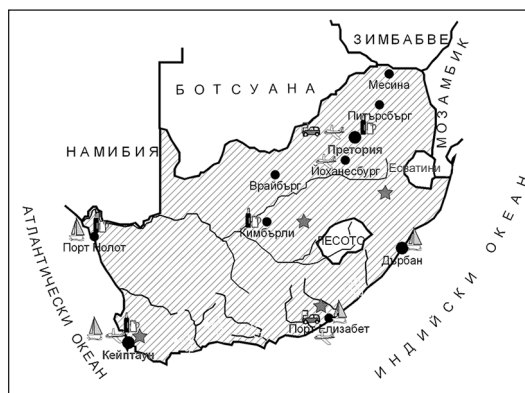
3 т.

24. Обозначете върху картата река Нил с цифра 1.



3 т.

25. Поставете подходящо заглавие на картата.



3 т.

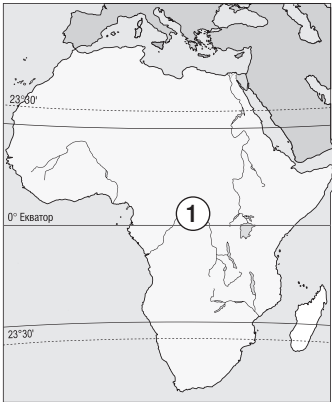
САМООЦЕНЕТЕ СЕ

Слаб 2	Среден 3	Добър 4	Много добър 5	Отличен 6
0 – 11	12 – 18	19 – 24	25 – 30	31 – 36

Отговори на тестовите задачи

НАЧАЛЕН ПРЕГОВОР – 1

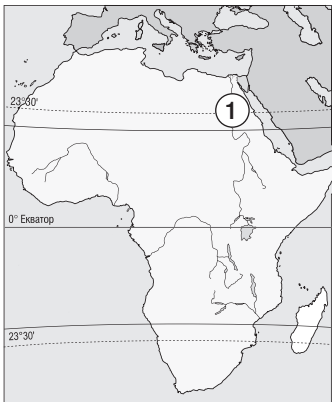
1 – А; 2 – В; 3 – Б; 4 – В; 5 – А; 6 – А; 7 – Г; 8 – Б; 9 – Г; 10 – А; 11 – Б; 12 – Г; 13 – В; 14 – В; 15 – В; 16 – Б; 17 – В; 18 – А; 19 – Двата града са столици.; 20 – Земеделието; 21 Гондвана; 22 – 20° с.г.ш. и 45° и.г.д.; 23 – Пълноводие – май, юни; Маловодие – януари, февруари, март; 24 – (виж картата); 25 – Напр. Египет.



24

НАЧАЛЕН ПРЕГОВОР – 2

1 – А; 2 – Г; 3 – Г; 4 – Г; 5 – А; 6 – А; 7 – Б; 8 – А; 9 – Б; 10 – Б; 11 – Б; 12 – Б; 13 – Б; 14 – Г; 15 – Б; 16 – В; 17 – Г; 18 – А; 19 – Двете са пустини.; 20 – Напр. Туризм; 21 – ООН; 22 – 20° ю.г.ш. и 30° и.г.д.; 23 – Най-пълноводна – октомври, август, септември, ноември; Най-маловодна – май, април; 24 – (виж картата); 25 – Напр. Стопанство на РЮА.



24

ЮЖНА АМЕРИКА – 1

1 – В; 2 – Г; 3 – В; 4 – А; 5 – Г; 6 – Г; 7 – В; 8 – Б; 9 – Г; 10 – Б; 11 – А; 12 – В; 13 – Б; 14 – Б; 15 – А; 16 – Б; 17 – Б; 18 – Г; 19 – Америго Веспучи; 20 – Амазонска низина; 21 – Двата обекта са водопади. 22 – Приблизително 54° ю.г.ш. и 70° з.г.д.; 23 – (виж картата); 24 – (виж картата); 25 – През лятото (сезоните в Южното полукуълбо са противоположни).