


САМОПРОВЕРКА № 1

ВХОДНО НИВО




1. Запиши числото:

а) седемстотин шестдесет и осем – _____

б) което е сбор от 7 стот. и 2 дес. – _____

2 ТОЧКИ



2. Пресметни.

$634 + 152 = \underline{\quad}$

$864 - 377 = \underline{\quad}$

$172 : 4 = \underline{\quad}$

$297 : 2 = \underline{\quad}$

$764 : 4 = \underline{\quad}$

$756 : 7 = \underline{\quad}$

6 ТОЧКИ



3. Намери стойността на числовите изрази.

$652 - 252 : 2$
= _____

$169 \cdot 3 + 131 \cdot 3$
= _____

4 ТОЧКИ



4. Намери неизвестното число.

$564 + \underline{\quad} = 1000$

$\underline{\quad} - 317 = 426$

2 ТОЧКИ



5. Мая почивала на море 12 дена, които са третинка от дните, прекарани от нея на планина. Колко дни общо Мая е почивала на море и планина?

2 ТОЧКИ





00

6. Обиколката на правоъгълник е 480 мм. Едната му страна е 15 см. Колко милиметра е другата му страна? Огради буква-та пред верния отговор.

А) 450 мм

Б) 225 мм

В) 90 мм

2
ТОЧКИ



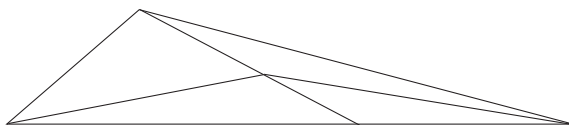
00

7. Колко са тъпите ъгли на чертежа? Огради буквата пред верния отговор.

А) 4

Б) 5

В) 6



2
ТОЧКИ

Общ брой точки _____

Допълнителна задача

1 бонус точка

Попълни верижката, като знаеш, че всяка дума започва с последната буква на предишната.

1) Знакът за изваждане.

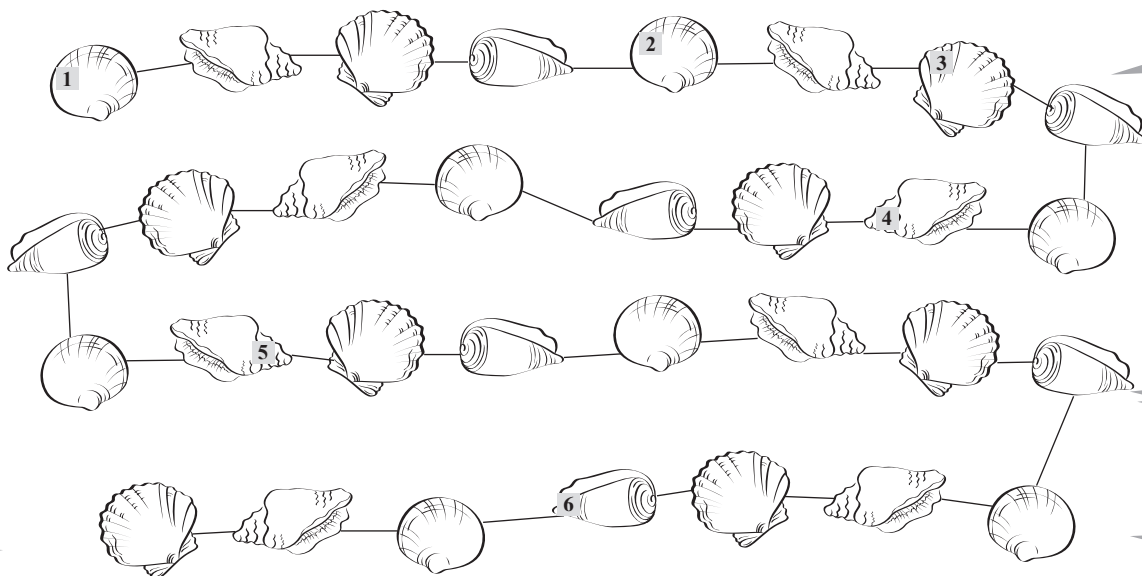
2) Най-малкото трицифрено число.

3) Най-голямото едноцифрено четно число.

4) Десетинката от сантиметра.

5) Триъгълник с 2 равни страни.

6) Произведението на всяко число с нула.



ОТГОВОРИ

САМОПРОВЕРКА № 1

I група

1. а) 768; б) 720

2. 786; 487; 688; 594; 191; 108

3. $652 - 252 : 2 = 652 - 126 = 526$; 900

4. 436; 743

5. $12 + 12 \cdot 3 = 12 + 36 = 48$ (дни)


6. В

7. В

Допълнителна задача: 1) минус; 2) сто; 3) осем; 4) милиметър;
5) равнобедрен; 6) нула

САМОПРОВЕРКА № 1


ВХОДНО НИВО



1. Запиши числото:

- а) триста двадесет и седем – _____
 б) което е сбор от 6 стот. и 3 ед. – _____


2 ТОЧКИ



2. Пресметни.

$512 + 246 =$ _____	$758 - 427 =$ _____
$264 \cdot 3$	$489 \cdot 2$
_____	_____
$825 : 5 =$ _____	$636 : 6 =$ _____


6 ТОЧКИ



3. Намери стойността на числовите изрази.

$734 - 234 : 2$	$317 \cdot 2 + 183 \cdot 2$
$=$ _____	$=$ _____


4 ТОЧКИ



4. Намери неизвестното число.

$278 + \underline{\quad} = 800$	$\underline{\quad} - 452 = 515$
_____	_____


2 ТОЧКИ



5. През лятото Васко бил при баба си на село 24 дена, които са 3 пъти повече от времето, което прекарал на спортен лагер. Колко дни общо Васко е бил на село и на спортен лагер?

2 ТОЧКИ






6. Обиколката на правоъгълник е 360 мм. Едната му страна е 12 см. Колко милиметра е другата му страна? Огради буквата пред верния отговор.

2
ТОЧКИ

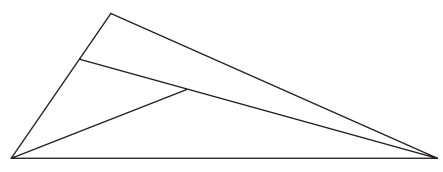
- А) 168 мм Б) 60 мм В) 120 мм



7. Колко са острите ъгли на чертежа? Огради буквата пред верния отговор

2
ТОЧКИ

- А) 7
Б) 8
В) 9



Общ брой точки _____

Допълнителна задача

1 бонус точка

Открий единадесет думи, които си срещал в учебника по математика.

О	Б	И	К	О	Л	К	А	Д
Р	С	Г	Ъ	Р	К	Р	Е	Й
А	К	Н	И	В	О	Л	О	П
Т	О	Ч	К	А	Е	Н	В	О
С	Б	О	Р	Н	Н	О	Р	Н
М	И	Л	И	М	Е	Т	Ъ	Р
Н	Ж	Е	Л	Ъ	Г	Ъ	Х	Е

ОТГОВОРИ

САМОПРОВЕРКА № 1

II група

1. а) 327; б) 603
2. 758; 331; 792; 978; 165; 106
3. $734 - 234 : 2 = 734 - 117 = 617$; 1000
4. 522; 967
5. $24 + 24 : 3 = 24 + 8 = 32$ (дни)
6. Б
7. Б

Допълнителна задача: обиколка; кръг; половинка; точка; сбор; милиметър; скоби; деление; тон; връх; ъгъл